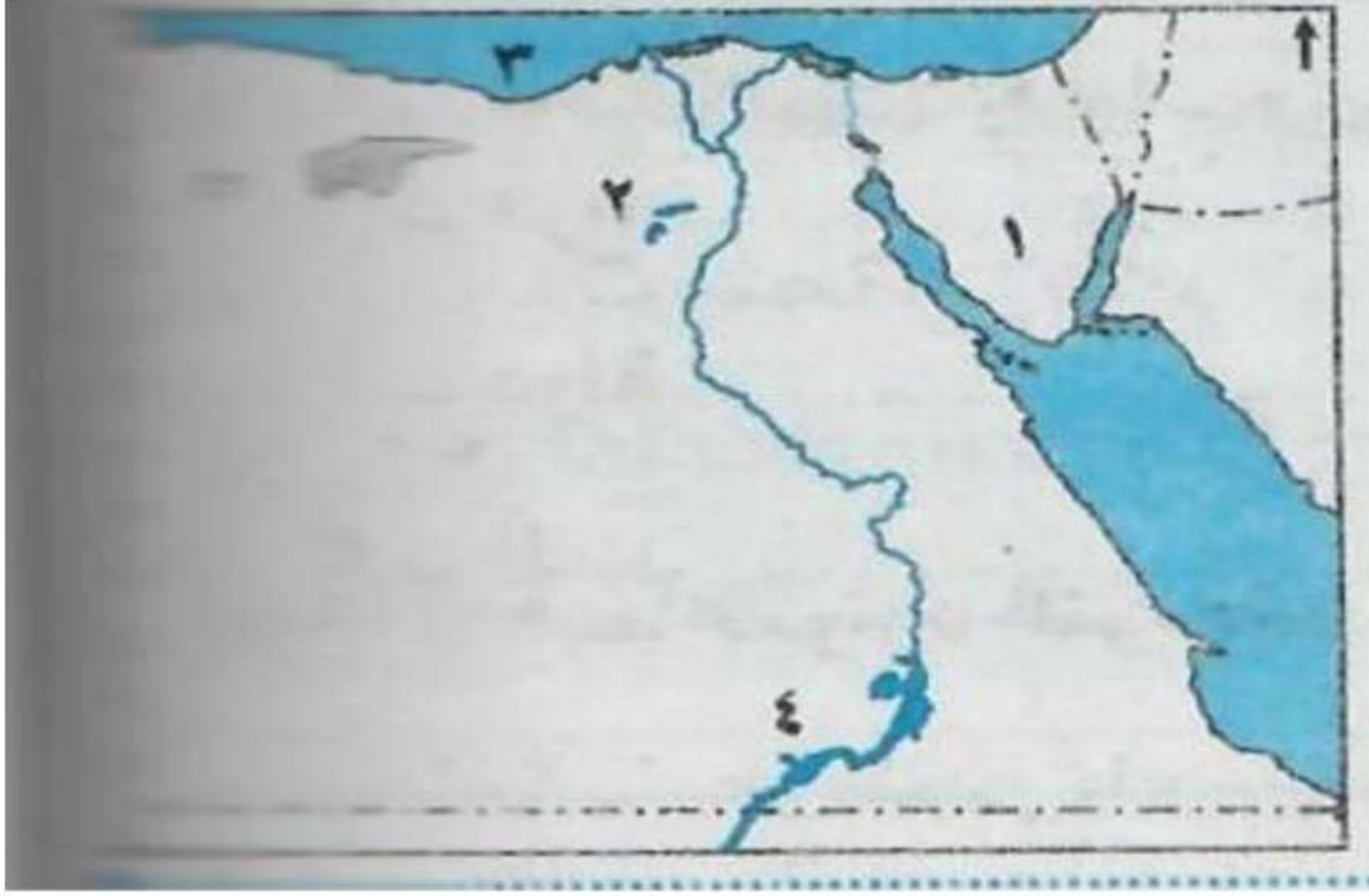


الاختبار الأولأولاً: أ) أمامك خريطة صماء لمصر اكتب مدلول الأرقام:

- منطقة لإنتاج المنجنيز أم نجمة.
- بحيرة قارون.
- البحر المتوسط.
- بحيرة ناصر.

ب) مامقترحاتك لتنمية الطاقة في مصر؟

- الاهتمام بالبحث العلمي.
- ترشيد الاستهلاك.
- تشجيع الاستثمار.

ثانياً: بم تفسر؟

- ١- أهمية المياه العذبة في مصر؟
  - أ- مصدر للشرب والأغراض المنزلية.
  - ب- قيام الزراعة.
  - ت- طرق نقل رخيصة.
  - ث- توليد الكهرباء.
- ٢- أهمية معدن الحديد؟
  - أساس الصناعات الحديثة حيث يدخل في:
    - أ- صناعة السيارات.
    - ب- وقضبان السكك الحديدية، وغيرها.
- ٣- انتهاء اضطهاد المسيحية في عصر قسطنطين الأول.
  - لأنه أصدر مرسوم ميلان ٣١٣م إلى جانب الوثنية وأعلن فيه:
    - أ- الاعتراف بالديانة المسيحية إلى جانب الوثنية.
    - ب- إلغاء العقوبات المفروضة على من يعتنق المسيحية.
    - ت- إعادة أملاك الكنيسة المصادرة.
- ٤- تسمية الكنيسة المعلقة بهذا الاسم.
  - لأنها بنيت على أنقاض جدران برجين قديمين من أبراج أحد الحصون الرومانية.

- ٥- تسمية عصر دقلديانوس بعصر الاضطهاد الأكبر.  
 - لأنه أصدر مرسوم ينص على حرق الكتب المقدسة وهدم الكنائس وإعدام كل من يعتنق المسيحية.

### ثالثاً: أ) أكمل العبارات الآتية بكلمات مناسبة:

- ١- أول من بشر بالإنجيل في مصر القديس مرقس.  
 ٢- إمبراطور روماني احترام عقائد المصريين وقدم القرابين للآلهة المصرية أكتافيوس.

### ب) ما النتائج المترتبة على؟

- ١- الفتح العربي لمصر عام ٦٤١م.  
 - تخلصت مصر من ظلم واضطهاد الرومان.  
 - أصبحت مصر دولة إسلامية.  
 ٢- استخراج الفوسفات في مصر.  
 - يدخل في صناعة الأسمدة الزراعية والمبيدات الحشرية ويصدر إلى الخارج.  
 ٣- إنشاء السد العالي.  
 - حماية مصر من الفيضان والجفاف وتوليد الطاقة الكهرومائية.

### رابعاً: اختر الإجابة الصحيحة مما بين القوسين:

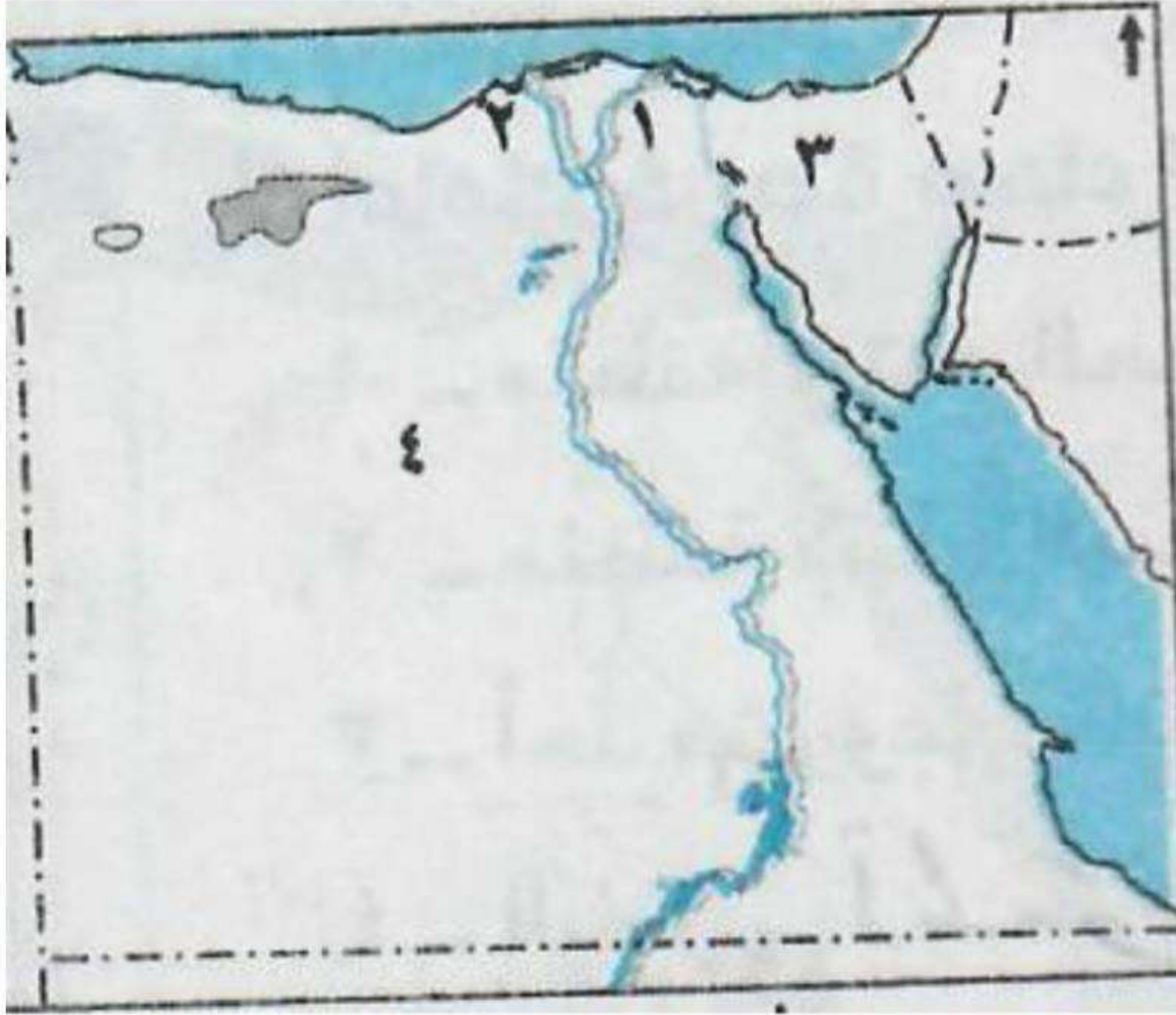
- ١- يعد حقل (أبو ماضي) أهم حقول مصر في الإنتاج.....  
 (الحديد - المنجنيز - الفحم - الغاز الطبيعي).  
 ٢- تم مد النيل إلى شمال سيناء لاستصلاحها عن طريق مشروع.....  
 (توشكى - شرق العوينات - ترعة السلام - السد العالي).  
 ٣- يحتل القطن الخام المركز.....  
 (الأول - الثاني - الثالث - الرابع).  
 ٤- ولد السيد المسيح في مدينة بيت لحم ب.....  
 (مصر - سوريا - فلسطين - لبنان).  
 ٥- انتصر..... على أنطونيوس وكليوباترا السابعة في معركة أكتيوم البحرية.  
 (بطليموس الأول - أكتافيوس - قسطنطين الأول - دقلديانوس).

خامساً: اكتب كلمة (صح) أمام العبارة الصحيحة أو كلمة (خطأ) أمام العبارة غير الصحيحة مع التصويب :

- ١- يعتبر نهر النيل أهم مصادر المياه العذبة في مصر. (صح)
- ٢- تعد الرياح أحد مصادر الطاقة غير **المتجددة**. متجددة (خطأ)
- ٣- يصعب الصيد في البحر الأحمر لكثرة الشعاب المرجانية. (صح)
- ٤- نجح **الإسكندر الأكبر** في تأسيس دولة البطالمة في مصر. (خطأ)  
(بطليموس الأول)

الاختبار الثاني

أولاً: أ) أمامك خريطة صماء لمصر اكتب مدلول الأرقام:



١- فرع دمياط

٢- ميناء الإسكندرية

٣- منطقة لإنتاج الفحم جبل المغارة

٤- منطقة لإنتاج الحديد الواحات البحرية

ب) اكتب المفهوم الذي تشير إليه كل عبارة:

- ١- الموارد التي منحها الله للإنسان دون جهد من جانبه في تكوينها موارد طبيعية.
- ٢- دار للعلم يدرس فيها الطالب العديد من التخصصات العلمية والأدبية جامعة.

ثانياً: بم تفسر؟

- ١- بناء حصن بابليون.
- ليسهل على الرومان السيطرة على ثورات المصريين ضدهم.
- ٢- أهمية المياه العذبة.
- مصدر للشرب والأغراض المنزلية وقيام الزراعة.
- توليد الكهرباء المائية.
- طرق نقل رخيصة.
- ٣- إنتاج مصايد الأسماك في مصر لا يكفي حاجة السكان.
- بسبب تلوث المياه.
- تجفيف مساحات واسعة من البحيرات
- استخدام وسائل صيد بدائية.
- وصعوبة الصيد في البحر الأحمر بسبب كثرة الشعاب المرجانية.
- ٤- الأهمية الاقتصادية للذهب.
- يستخدم في صناعة الحلى وأنواع العلاج.

ثالثاً: اختر الإجابة الصحيحة مما بين القوسين:

١. يوجد المنجنيز في مصر بمنطقة.....  
(الواحات البحرية - أم نجمة - أبو طرطور - جبل مغارة).
٢. يعد النقل..... أفضل وسائل نقل البضائع ثقيلة الوزن وضخمة الحجم.  
(البري - النهري - الجوي - البحري).
٣. أنشأ بطليموس الأول المناحل لتصدير العسل إلى.....  
(الصين - روما - سوريا - اليونان).
٤. أحد أكبر أديرة مصر والشرق الأوسط دير.....  
(الأنبا بيشوي - المحرق - الأنبا مقار - السريان).

رابعاً: أ) ما النتائج المترتبة على:

- ١- هزيمة كليوباترا السابعة وأنطونيوس في معركة أكتيوم البحرية ٣١ ق.م.  
- انتحار كليوباترا وأنطونيوس وأصبحت مصر ولاية رومانية.
- ٢- رغبة بطليموس الأول في الانفراد بحكم مصر.  
- أصبح حاكماً لمصر بعد وفاة الإسكندر الأكبر.
- ٣- سوء إدارة بعض الصناعات.  
- يؤدي إلى تلوث الماء والهواء.

ب) ماذا يحدث إذا لم؟ :

- ١- يهتم الرومان بالفنون والآثار.  
- لم يقوموا ببناء المعادن والمسارح في مصر.
- ٢- تهتم مصر بتنمية تجارتها الخارجية.  
- تقل الصادرات المصرية ويقل الحصول على العملات الأجنبية وبالتالي يقل الدخل.

خامساً: اكتب كلمة (صح) أمام العبارة الصحيحة أو كلمة (خطأ) أمام العبارة غيرالصحيحة مع التصويب :

- ١- المياه المالحة لا تقل أهمية عن المياه العذبة. (صح)
- ٢- تعد الصناعات الكيميائية من الصناعات **الاستخراجية**. تحويلية (خطأ)
- ٣- تشتهر مصر **بوفرة** المراعي الطبيعية ذات الأهمية الاقتصادية. ندرة (خطأ)
- ٤- يعد بطليموس الأول مؤسس دولة البطالمة في مصر. (صح)
- ٥- تعد ثورة الرعاة أهم ثورات المصريين ضد الرومان. (صح)

الاختبار الثالث

أولاً: أمامك خريطة صماء لمصر أكتب مدلول الأرقام:



- ١- منطقة لإنتاج الحديد الواحات البحرية.
- ٢- منطقة لإنتاج المنجنيز أم نجمة.
- ٣- أحد مشروعات التنمية الزراعية شرق العوينات.
- ٤- البحر المتوسط.

ب: بم تفسر؟

- ١- يعرف عصر دقلديانوس بعصر الشهداء.
- ١- أصدر مرسوماً ينص على حرق الكتب المقدسة.
- ٢- هدم الكنائس.
- ٣- إعدام كل من يعتنق المسيحية.
- ٢- أهمية الزراعة.
- أ- يعمل بها نحو ٢٨% من إجمالي قوة العمل في مصر.
- ب- تسهم بنحو ٢٠% من الصادرات السلعية في مصر.
- ٣- سقوط دولة البطالمة.
- أ- ضعف الملوك بعد بطليموس الثالث.
- ب- ثورات المصريين ضدهم.
- ت- ازدياد نفوذ في مصر وخاصة في عهد كليوباترا.

ثانياً: أ) اكتب كلمة (صح) أمام العبارة الصحيحة أو كلمة (خطأ) أمام العبارة غير الصحيحة فيما يلي:

- ١- تعد صناعة الأسمنت واستخراج البترول من الصناعات الاستخراجية. (خطأ).
- ٢- يتم توليد الكهرباء الحرارية من محطة السد العالي بأسوان. (خطأ).
- ٣- نهر النيل المصدر الوحيد للمياه العذبة في مصر. (خطأ).
- ٤- اتخذ بطليموس الأول مدينة القاهرة عاصمة ومقرراً لحك دولته. (خطأ).

ب) ماذا يحدث إذا لم؟ :

- ١- يكتشف خام الحديد في مصر.
- لم تقم صناعة قضبان السكك الحديدية ولا صناعة السيارات والصناعات الحديثة في مصر.

ثالثاً: أ) اختر الإجابة الصحيحة مما بين القوسين:

- ١- يعتمد مصنع حلوان الحديد والصلب على حديد .....  
(الصحراء الشرقية - سيناء - شرق أسوان - الواحات البحرية).
- ٢- يعد البحر ..... أكثر بحار العالم تلوثاً.  
(المتوسط - الأحمر - الأسود - الميت).
- ٣- تعد مصر ..... دول العالم انشاءً للسكك الحديدية.  
(أولى - ثاني - ثالث - رابع).
- ٤- أصدر ..... مرسوم ميلان الذي أنهى عصر اضطهاد المسيحية.  
(قسطنطين الأول - دقلديانوس - أغسطس قيصر - إقليدس).

ثالثاً: ب) ما النتائج المترتبة على:

- ١- تلوث سواحل البحار والبحيرات في مصر.  
- قلة الثروة السمكية في مصر وتلوث المياه.

رابعاً: أ) اكتب المصطلح العلمي الذي تشير إليه كل عبارة من العبارات الآتية:

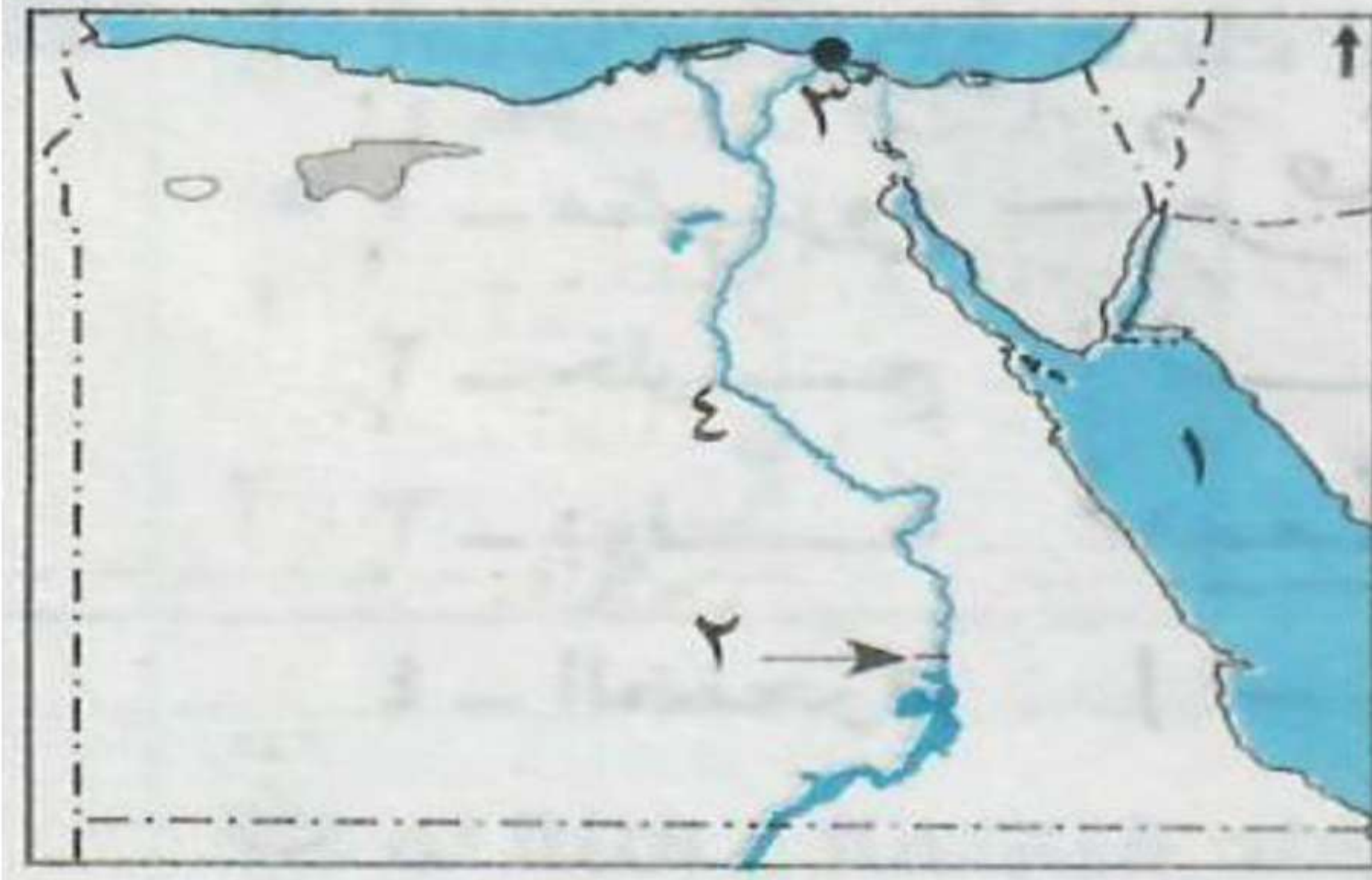
- ١- كل ما ينتج عن احتراق الوقود أو حرارة الشمس أو وقوة الرياح أو سقوط الأمطار.  
(الطاقة).
- ٢- تغيرات لبعض الموارد الطبيعية فتصبح غير صالحة للإستخدام البشري.  
(تلوث).
- ٣- تحويل الموارد الخام إلى منتجات لسد احتياجات السكان.  
(الصناعة).
- ٤- أهم الثورات التي قام بها الشعب المصري ضد الرومان.  
(ثورة الرعاة).
- ٥- دليل للعلم يدرس فيها الطالب العديد من التخصصات العلمية والأدبية.  
(جامعة).

ب) ما الدليل على اهتمام بطليموس الأول بالعلم والعلماء:

- ١- قيامه بإنشاء مجمع للبحوث الأدبية والعلمية (جامعة الإسكندرية) ووضع نواة مكتبة الإسكندرية.

الاختبار الرابع

اولاً: أمامك خريطة صماء، لمصر اكتب مدلول الأرقام:



- ١- البحر الأحمر.
- ٢- محطة كهرباء السد العالي.
- ٣- ميناء دمياط.
- ٤- نهر النيل.

(ب) بم تفسر؟

- ١- انهيار الحكم الروماني.
- أ- حرمان المصريين من الإشتراك في حكم بلادهم وفرض الضرائب.
- ب- سوء معاملة الرومان للمصريين.
- ت- ثورات المصريين ضد الرومان مثل ثورة الرعاة في الدلتا.
- ٢- أهمية النقل الجوي.
- أ- أسرع وسائل النقل.
- ب- واسع الانتشار.
- ت- تتخطى المرتفعات.


ثانياً: أ) اكتب كلمة (صح) أمام العبارة الصحيحة أو كلمة (خطأ) أمام العبارة غير الصحيحة قيميا يلى:

- ١- الغاز الطبيعي أحد مصادر الطاقة المتجددة. (خطأ)
- ٢- حفر قناة السويس أدى إلى زيادة النشاط الزراعي في مصر. (خطأ)
- ٣- دخلت المسيحية مصر على يد القديس باخوم. (خطأ)
- ٤- نجح عمرو بن العاص في فتح مصر عام ٦٤١م. (صح)

(ب) ما النتائج المترتبة على:

- ١- إنشاء السد العالي.
- حماية مصر من خطر الفيضانات والجفاف.
- ساعد على توليد الكهرباء.





ثالثاً: أ) اكتب المصطلح الذي تشير إليه كل عبارة من العبارات الآتية:

- ١- كل الموارد التي يمنحها الله للإنسان دون مجهود من جانبه.  
(موارد طبيعية).
- ٢- كل ماينتج عن احتراق الوقود أو حرارة الشمس أو قوة الرياح أو تساقط الأمطار.  
(الطاقة).
- ٣- حركة البيع والشراء وانتقال الخدمات من مكان لآخر.  
(التجارة).
- ٤- زيادة منسوب الماء عن مستوى ضفتي نهر في موسم معين.  
(فيضان).
- ٥- التقويم الذي اتخذته الكنيسة القبطية ويبدأ بعام ٢٨٤ م.  
(التقويم القبطي).
- ٦- معبد أقيم بالإسكندرية للعبادة والسكن.  
(معبد رأس السوداء).

رابعاً: أ) ما المقصود بـ؟

- ١- الجامعة.
  - دار للعلم يدرس فيه الطالب العلوم الأدبية والعلمية.
- ب) اختر الإجابة الصحيحة مما بين الأقواس:
- ١- الكوميسا اتحاد اقتصادي يضم دول شرق وجنوب .....  
(أفريقيا - أوروبا - آسيا - أمريكا).
  - ٢- أكثر مصادر الطاقة غير المتجددة تلويثاً للبيئة هو.....  
(الغاز الطبيعي - البترول - الفحم - الكهرباء المائية).
  - ٣- دخلت المسيحية مصر في منتصف القرن ..... الميلادي.  
(الأول - الثاني - الثالث - الرابع).

الاختبار الخامسأولاً: (أ) أمامك خريطة صماء لمصر اكتب مدلول الأرقام:

١- مشروع شرق العوينات.

٢- خليج السويس.

٣- دولة ليبيا.

٤- الصحراء الشرقية.

(ب) ما النتائج المترتبة على؟:

١- إصدار مرسوم ميلان عام ٣١٣م.

- الاعتراف بالديانة المسيحية إلى جانب الديانة الوثنية.

- إلغاء العقوبات على من يعتنق المسيحية.

- إعادة املك الكنيسة المصادرة.

٢- تلوث نهر النيل.

- تلوث المياه والأسماك وإصابة الإنسان بكثير من الأمراض.

٣- هزيمة كليوباترا وأنطونيوس في موقعة أكتيوم البحرية.

- انتحار كلا منهما.

- انتهاء عصر البطالمة في مصر.

- أصبحت مصر ولاية رومانية.

ثانياً: صل من القائمة (أ) بما يناسبها من (ب):

أ

ب

- ١- الكوميسا اتحاد اقتصادي يضم
- ٢- أكبر المناطق إنتاجاً للبتروول في مصر
- ٣- ولد السيد المسيح عليه السلام في
- ٤- من أهم مراكز صناعة الأثاث في مصر

- ١- دول شرق وجنوب إفريقيا.
- ٢- خليج السويس.
- ٣- فلسطين.
- ٤- القاهرة ودمياط.

ثالثاً: اكتب المصطلح الذي تشير إليه كل عبارة من العبارات الآتية:

- ١- الكهرباء المائية المولدة من السدود والقناطر والخزانات.  
(الطاقة الكهرومائية).
- ٢- مصادر الطاقة التي لا تنفذ باستهلاك الإنسان لها.  
(الطاقة المتجددة).
- ٣- حركة البيع والشراء وانتقال لخدمات من مصر إلى الخارج لتوفير النقد الأجنبي.  
(تجارة خارجية).
- ٤- دار للعلم يدرس فيها الطالب العديد من التخصصات العلمية والأدبية.  
(الجامعة).

(ب) بم تفسر؟:

- ١- أهمية النقل المائي.  
- أرخص وسائل النقل.  
- يستخدم في نقل البضائع كبيرة الحجم وثقيلة الوزن.
- ٢- الأهمية الاقتصادية للفوسفات.  
- يستخدم في الأسمدة الزراعية والمبيدات الحشرية.  
- يصدر بكميات إلى الخارج.

رابعاً: أ) اكتب كلمة (صح) أمام العبارة الصحيحة أو كلمة (خطأ) أمام العبارة غير الصحيحة؟

- ١- من الموارد البشرية الزراعة والصناعة والتعليم والسياحة. (صح)
- ٢- مشروع شرق العوينات يمتد على مياه نهر النيل في الزراعة. (خطأ)
- ٣- أنشأ الإسكندر الأكبر مجمع البحوث الأدبية والعلمية. (خطأ)
- ٤- أطلق على عصر دقلديانوس عصر الشهداء. (صح)

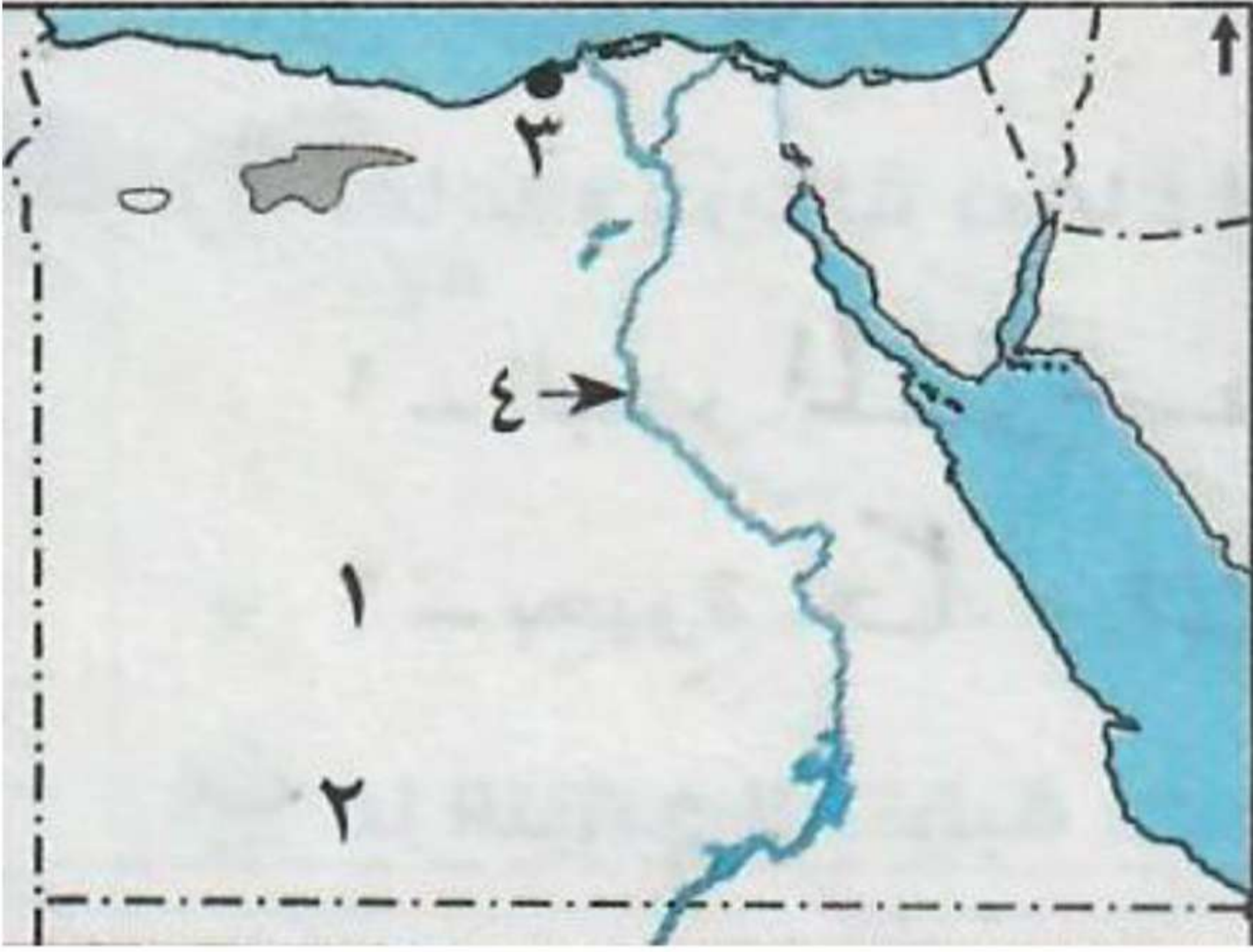
(ب) اكتب ما يدل على صحة العبارات الآتية:

- ١- إساءة الرومان معاملة المصريين أثناء الحكم الروماني لمصر.

- حرّموا المصريين من الاشتراك في حكم بلادهم.

الاختبار السادس

أولاً: أ) أمامك خريطة صماء لمصر اكتب مدلول الأرقام:



١- الصحراء الغربية.

٢- أحد مشروعات التنمية الزراعية شرق العوينات.

٣- ميناء الإسكندرية.

٤- نهر النيل.

ب) ما المقصود بـ؟

١- الكوميسا.

- اتحاد اقتصادي يضم دول شرق وجنوب إفريقيا وعددها ٢٠ دولة ومصر عضوه فيه.

٢- الفيضان.

- هو زيادة منسوب الماء عن مستوى ضفتي النهر في موسم معين.

ثانياً: اختر الإجابة الصحيحة مما بين الأقواس:

١- تمثل منطقة ..... أكبر مناطق إنتاج الغاز الطبيعي في مصر.

(خليج السويس - سيناء - البحر المتوسط - الوادي الجديد).

٢- تنقسم ..... إلى عذبة وأخرى مالحة.


(الأنهار - البحار - البحيرات - المحيطات).

٣- يستخرج المنجنيز من منطقة .

(أم نجمة - سفاجا - الواحات البحرية - الوادي الجديد).

٤- اتخذ بطليموس الأول مدينة ..... عاصمة للبلاد.


(القاهرة - الإسكندرية - الجيزة - دمياط).



- ١- انهيار الحكم الروماني في مصر.
- حرم الرومان من الاشتراك بحم بلادهم.
- سوء معاملة الرومان للمصريين.
- فرض الضرائب.
- ثورات المصريين ضد الرومان أهمها ثورة الرعاة في الدلتا.
- ٢- الفحم أقل أهمية من البترول والغاز الطبيعي.
- لأنه يلوث البيئة عندما يحترق يخرج منه كميات كبيرة من ثاني أكسيد الكربون.
- ٣- الإنتاج السمكي لا يكفي حاجة السكان في مصر.
- تجفيف مساحات كبيرة من مياه البحيرات.
- استخدام وسائل صيد بدائية.
- قلة رؤوس الأموال.
- صعوبة الصيد في البحر الأحمر بسبب كثرة الشعاب المرجانية.

## ثالثاً: اكتب المصطلح الذي تشير إليه كل عبارة من العبارات الآتية:

- ١- معدن يستخدم في صناعة الحلى وبعض الأدوية والمصريون أول من نقب عنه.  
(الذهب).
- ٢- ندرة المطر مما يضر بالأنشطة البشرية وخاصة الزراعة والرعى.  
(الجفاف).
- ٣- تحويل المواد الخام إلى منتجات لسد احتياجات السكان.  
(الصناعة).
- ٤- ممر ملاحى مهم يربط بين البحر الأحمر والمتوسط لنقل البترول والمنتجات الأخرى للعالم.  
(قناة السويس).
- ٥- دار للعلم يدرس فيها الطالب العديد من التخصصات العلمية والأدبية.  
(الجامعة).
- ٦- انتقال السلع والخدمات بين الدولة ودول العالم المختلفة.  
(تجارة خارجية).



رابعاً: أ) ماذا يحدث إذا؟

١- لم تتوفر مقومات الإنتاج الصناعي في مصر.

- لم تقام صناعة في مصر ولم تنهض مصر في اقتصادها.

ب) اكتب كلمة (صح) أمام العبارة الصحيحة أو كلمة (خطأ) أمام العبارة غير الصحيحة؟

١- تعد الكهرباء الحرارية من مصادر الطاقة المتجددة والكهرباء المائية من المصادر الغير متجددة. (خطأ)

٢- تستخدم المياه المالحة والمياه العذبة كطرق نقل. (صح)

٣- تعد مصر أولى العالم إنشاءً للسكك الحديدية. (خطأ)

ج) ما النتائج المترتبة على؟

١- معركة أكتيوم البحرية.

- هزيمة وانتحار أنطونيوس وكليوباترا.

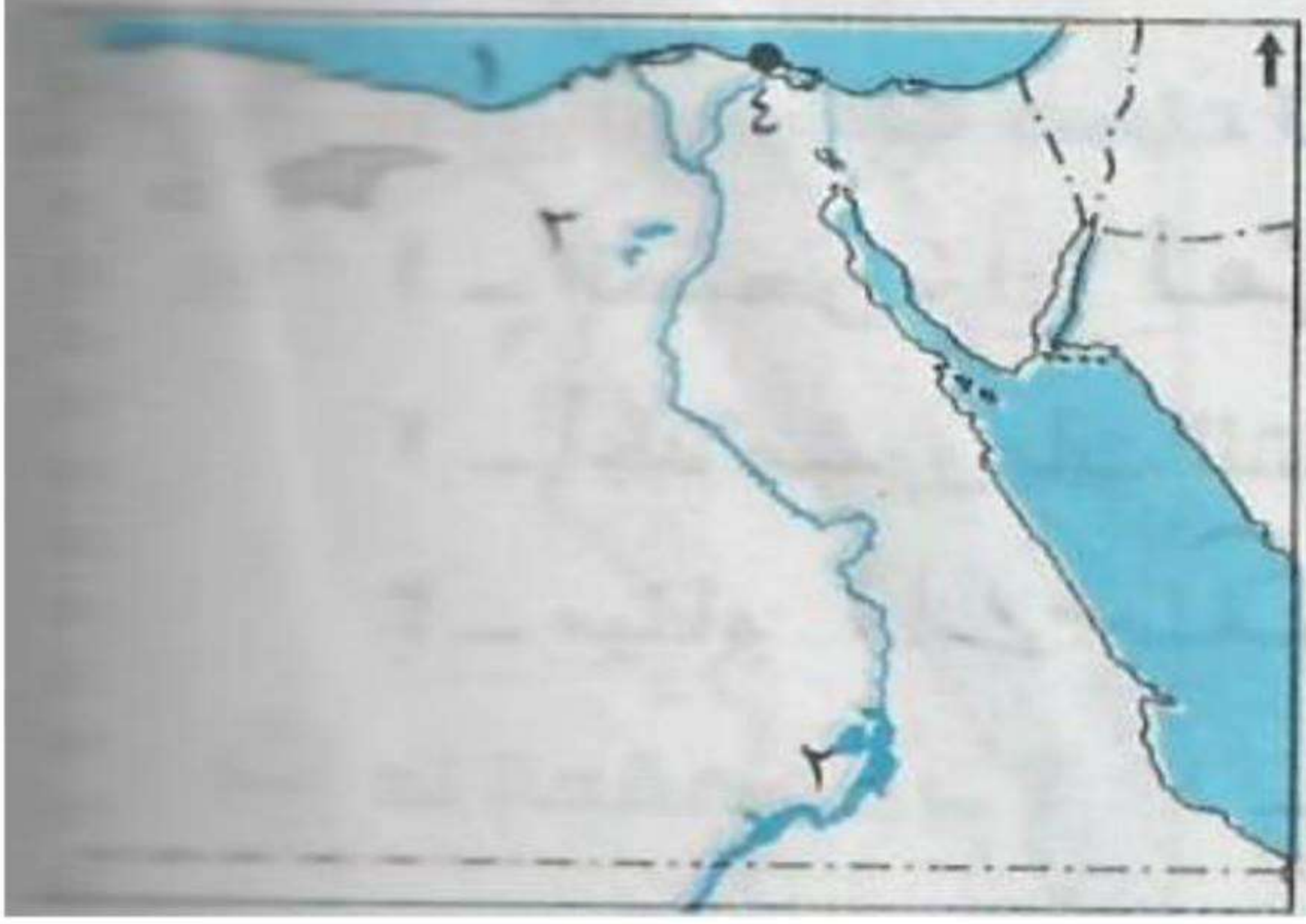
- أصبحت مصر ولاية رومانية.

٣- سوء إدارة بعض الصناعات.

- تلوث الماء والهواء.

الاختبار السابع

أولاً: أ) أمامك خريطة صماء لمصر اكتب مدلول الأرقام:



- ١- البحر المتوسط.
- ٢- بحيرة ناصر.
- ٣- بحيرة قارون.
- ٤- ميناء دمياط.

ب) ما النتائج المترتبة على؟

- ١- اهتمام الدولة بترشيد استهلاك المياه.
- المحافظة على المياه العذبة واستخدامها في الشرب والزراعة.
- ٢- زيادة التوسع في استخدام مصادر الطاقة المتجددة.
- يقل التلوث.
- المحافظة على البيئة من التلوث.
- ٣- إصدار مرسوم ميلان ٣١٣م.
- أنهى عصر اضطهاد المسيحية.
- الاعتراف بالديانة المسيحية إلى جانب الديانة الوثنية.
- إلغاء العقوبات على من يتبع المسيحية.
- إعادة أملاك الكنيسة المصادرة.

ثانياً: أ) اختر الكلمة التي لا تنتمي إلى المجموعة:

- ١- الفحم/ البترول/ الكهرباء الحرارية/ الكهرباء المائية.
- الفحم/ البترول/ الكهرباء الحرارية/ الكهرباء المائية.
- ٢- الحديد / الفوسفات / المنجنيز/ الغاز الطبيعي.
- الحديد / الفوسفات / المنجنيز/ الغاز الطبيعي.
- ٣- صناعة الأثاث / استخراج البترول /صناعة الأغذية المحفوظة/ صناعة الغزل والنسيج.
- صناعة الأثاث / استخراج البترول /صناعة الأغذية المحفوظة/ صناعة الغزل والنسيج.

١- أهمية السد العالي.

- حمى مصر من خطر الفيضان والجفاف وساعد على توليد الكهرباء.

٢- قلة موانئ البحر الأحمر.

- بسبب كثرة الشعاب المرجانية والاقتراب من الجبال.

٣- تلوث الموارد المائية في مصر.

- إلقاء المخلفات الصرف الصحي والصناعي.

- إلقاء مخلفات السفن.

- إلقاء مخلفات الصرف الصحي.

- تسرب زيوت البترول وناقلات البترول.

ثالثاً: أ) اكتب كلمة (صح) أمام العبارة الصحيحة أو كلمة (خطأ) أمام العبارة غير الصحيحة؟

١- بحيرة قارون من البحيرات العذبة في مصر بينما بحيرة ناصر من البحيرات المالحة.

(خطأ)

(خطأ)

(خطأ)

(صح)

٢- يعد العصر الروماني عصر الخلفاء الإسكندر الأكبر في مصر.

٣- يستخدم معدن المنجنيز في صناعة الأسمدة والمبيدات الحشرية.


٤- يواجه ميناء الإسكندرية أكثر مناطق العالم تقدماً في أوروبا.

رابعاً: أ) قارن بين:

١- مشروع شرق العوينات ومشروع توشكى من حيث الهدف من كل منهما.

مشروع توشكى	مشروع شرق العوينات	الهدف من كل منهما:
أ- ري مساحة واسعة جنوب منخفض الخارجة بالوادي الجديد.	أ- استصلاح نحو ٢٥٥ ألف فدان اعتماداً على المياه الجوفية.	
ب- زراعة النباتات الطبيعية ونباتات الزينة والمحاصيل الزراعية.	ب- زراعة القمح والشعير والفاكهة والنباتات الطبيعية.	





٢- أسباب سقوط دولة البطالمة وأسباب سقوط دولة الرومان.

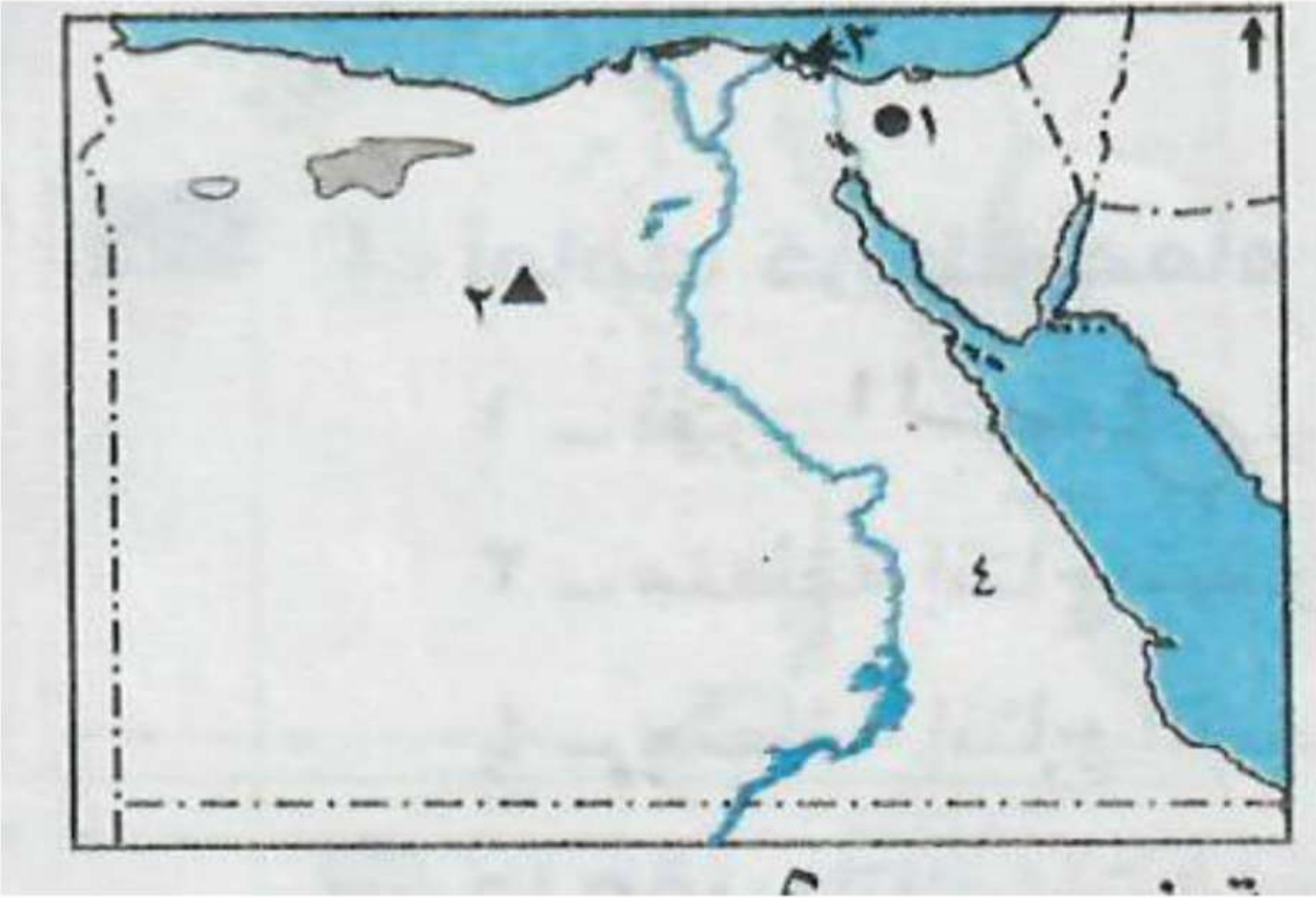
دولة الرومان	دولة البطالمة	أسباب سقوط كلاهما:
أ- حرم الرومان المصريين من الإشتراك في حكم بلادهم. ب- سوء معاملة الرومان للمصريين. ت- فرض الضرائب. ث- ثورات المصريين ضد الرومان أهمها ثورة الرعاة في الدلتا.	أ- ضعف الملوك بعد بطليموس الثالث. ب- ثورات المصريين ضد البطالمة. ت- زيادة نفوذ روما وتدخلها في شئون مصر.	

ب) ما المقصود بـ؟

- ١- جامعة.
- دار للعلم يدرس فيها الطالب العديد من التخصصات العلمية والأدبية.
- ٢- صناعات تحويلية.
- هي تحويل المواد الخام إلى سلع ومنتجات.
- ٣- تجمع الكوميسا.
- تجمع اقتصادي يضم ٢٠ دولة من شرق وجنوب إفريقيا ومصر الفرعونية.

رابعاً: ب) ماذا كان سيحدث؟

- ١- توسعت مصر في استخدام الطاقة الشمسية.
- المحافظة على البيئة من التلوث.
- ٢- لم يقم الشعب المصري بثورات ضد الرومان.
- لم تسقط دولة الرومان في مصر.
- ٣- تم ردم نهر النيل .
- لم تقم الزراعة في مصر ولايستطيع الإنسان الحياة فيها.

الاختبار الثامنأولاً: أ) أمامك خريطة صماء لمصر اكتب مدلول الأرقام:

- ١- منطقة لإنتاج الفحم جبل مغارة.
- ٢- منطقة لاستخراج الحديد الواحات البحرية.
- ٣- بحيرة المنزلة.
- ٤- الصحراء الشرقية.

ب) ماذا كان يحدث إذا:


- ١- لم ينجح بطليموس الأول في تأسيس دولة البطالمة في مصر.
- لم تقم دولة البطالمة في مصر.

ثانياً: أ) اختر الإجابة الصحيحة مما بين الأقواس:

- ١- تعد ..... مياه النيل إلى شمال سيناء لاستصلاح الأراضي بها.  
(قناة السويس - ترعة السلام - قناة بنما - قناة توشكى).
- ٢- يربط مترو الأنفاق بين مدن .....  
(الوجه القبلي - القناة - الحدود - القاهرة الكبرى).
- ٣- من الآثار التي تركها الرومان في مصر.....  
(حصن بابلين - منارة الإسكندرية - معبد إدفو - معبد فيلة).
- ٤- ولد السيد المسيح في بيت لحم بدولة.....  
(سوريا - لبنان - اليمن - فلسطين).

ب) بم تفسر؟

- ١- الأهمية الاقتصادية لخام الحديد.
- أساس الصناعات الحديثة ويدخل في صناعة قضبان السكك الحديدية والسيارات.
- ٢- قيام الصناعة في مصر.
- بسبب توافر المقومات الطبيعية والبشرية التي ساعدت على قيام الصناعة.
- ٣- اهتمام الرومان بإنشاء المسارح.
- للاحتفال بأعيادهم الدينية وأعياد الإمبراطور.
- ٤- رغبة بطليموس الأول في الانفراد بحكم مصر.
- بسبب ثروات مصر العظيمة وتاريخها المجيد.



## ثالثاً: اكتب ما تشير إليه العبارة:

- ١- تحويل المواد الخام إلى منتجات لسد احتياجات السكان. (صناعة).
- ٢- مياه يعتمد عليها مشروع شرق العوينات لاستصلاح ٢٥٥ ألف فدان. (المياه الجوفية).
- ٣- انتصر على أنطونيوس وكليوباترا في معركة أكتيوم البحرية. (أكتافوس).
- ٤- انتقال السلع والخدمات داخل حدود الدولة. (تجارة داخلية).

## رابعاً: أ) اكتب كلمة (صح) أمام العبارة الصحيحة أو كلمة (خطأ) أمام العبارة غير الصحيحة:

- ١- تعد مصر أولى دول العالم إنشاءً للسكك الحديدية. (خطأ)
- ٢- تم إنشاء سفاجا لتخفيف الضغط على ميناء الإسكندرية. (خطأ)
- ٣- صناعة الحديد والصلب من الصناعات الاستخراجية. (خطأ)
- ٤- يعد دير المحرق من أكبر أديرة مصر ويقع بمحافظة أسيوط. (صح)
- ٥- اتخذ بطليموس الأول من القاهرة عاصمة للبلاد. (خطأ)

الاختبار التاسع

أولاً: أ) أمامك خريطة صماء لمصر اكتب مدلول الأرقام:



- ١- نهر النيل.
- ٢- بحيرة قارون.
- ٣- منطقة إنتاج معدن الذهب منجم السكري.
- ٤- منطقة إنتاج الفحم جبل المغارة.

ب) ما مقترحاتك لتنشيط التجارة الخارجية في مصر؟

- عقد الاتفاقيات الاقتصادية.
- الاشتراك في المجتمعات الاقتصادية.
- تحسين المنتجات الصناعية.

ثانياً: صل من القائمة (أ) بما يناسبها من (ب):

ب

أ

- ١- نجع حمادي.
- ٢- القاهرة الكبرى.
- ٣- الإسكندرية.
- ٤- شرق العوينات.
- ٥- البحر المتوسط.
- ٦- وادي النطرون.

- ١- يتم توليد الكهرباء المائية من محطة قناطر
- ٢- يربط مترو الأنفاق بين ثلاث مدن تعرف بإقليم
- ٣- أنشأ بطليموس الأول مجمعاً قديماً في مدينة
- ٤- مشروع يهدف لاستصلاح ٢٥٥ ألف فدان هو مشروع
- ٥- أكبر المناطق إنتاجاً للغاز الطبيعي في مصر منطقة
- ٦- مجموعة أديرة ترجع للعصور الأولى المسيحية يطلق عليها أديرة


- ١- إصدار قسطنطين الأول مرسوم ميلان.
- الاعتراف بالديانة المسيحية بجانب الوثنية وإنهاء عصر الاضطهاد للديانة المسيحية.
- ٣- انشاء ميدان دمياط.
- تخفيف الضغط على ميناء الإسكندرية.

ثالثاً: أ) بم تفسر؟

- ١- انتشار النباتات الصحراوية في مصر وندرة الغابات.
- بسبب ندرة الأمطار.
- ٢- نقص الإنتاج السمكي في مصر.
- بسبب تلوث المياه.
- واستخدام وسائل صيد بدائية.
- وصعوبة الصيد في البحر الأحمر بسبب كثرة الشعاب المرجانية.
- وتجفيف مساحات واسعة من البحيرات.
- ٣- أهمية التجارة الخارجية.
- توفر فرص عمل.
- توفر العملات الأجنبية عن طريق تصدير المنتجات المصرية إلى خارج
- وتسد حاجات السكان عن طريق الاستيراد.

ب): اكتب ما تنشير إليه العبارة:

- ١- دار للعلم يدرس فيها الطالب العديد من التخصصات العلمية والأدبية.  
(جامعة).
- ٢- ندرة المطر مما يضر بالأنشطة البشرية وخاصة الزراعة والرعي.  
(جفاف).



رابعاً: أ) اكتب كلمة (صح) أمام العبارة الصحيحة أو كلمة (خطأ) أمام العبارة غير الصحيحة:

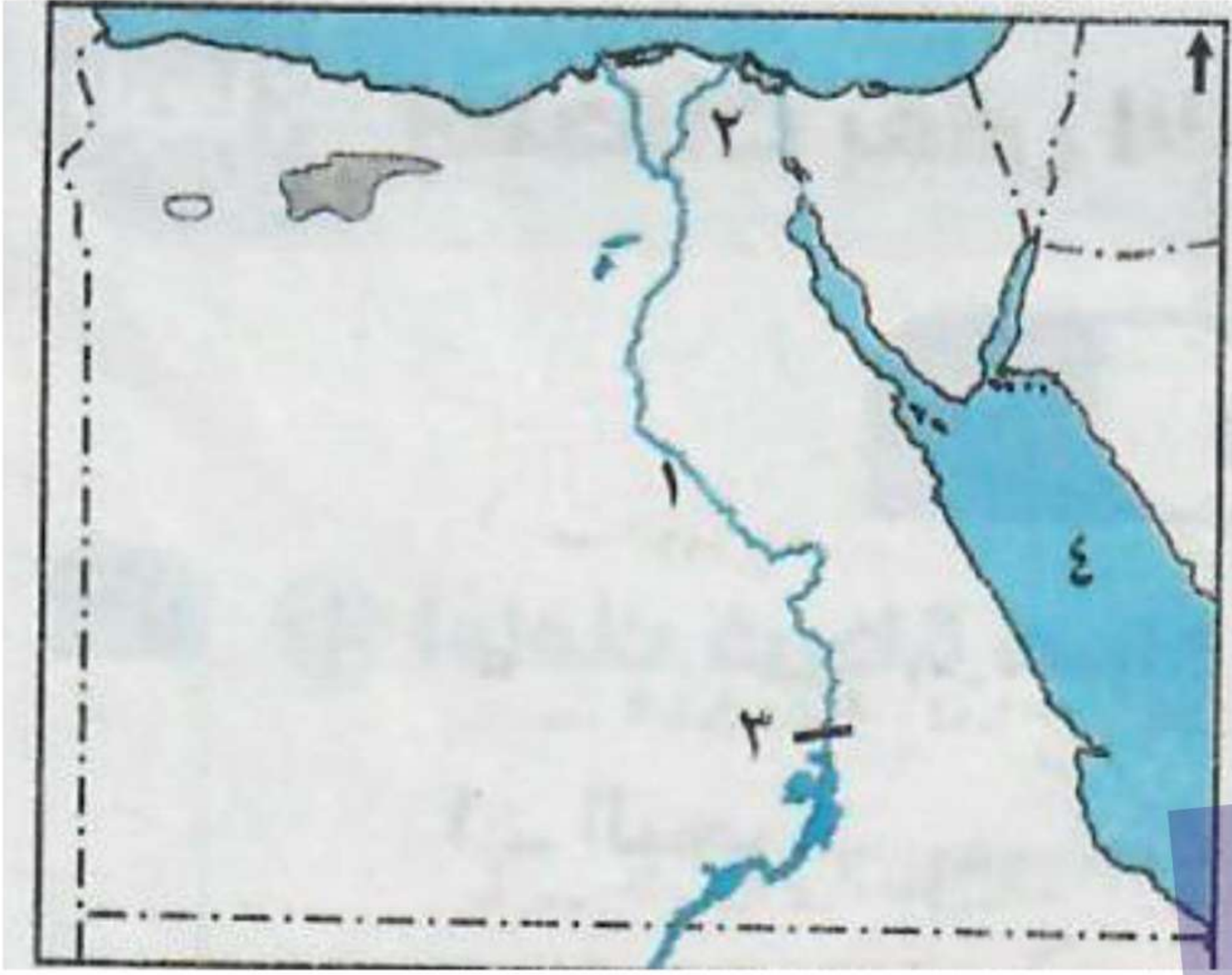
- ١- يستخدم المنجنيز في صناعة الصلب. (صح)
- ٢- القطن يأتي في المركز الاول من صادرات مصر ثم الأرز في المركز الثاني. (خطأ)
- ٣- يتم توليد الكهرباء في محطة إسنا القديمة. (خطأ)
- ٤- يعد دير المحرق بأسبوط أكبر أديرة مصر والشرق الأوسط. (صح)

ب): ماذا يحدث إذا؟

- ١- زادت صادرات مصر إلى دول العالم.
  - توفير العملات الأجنبية وزيادة الدخل.
  - رفع مستوى المعيشة.
  - تحسين الاقتصاد المصري.
- ٢- لم يأت العرب المسلمون بقيادة عمرو بن العاص إلى مصر.
  - استمر حكم الرومان لمصر واضطهادهم للمصريين.
- ٣- لم يتوافر معدن الفوسفات والمنجنيز في مصر.
  - لم تصنع الأسمدة والمبيدات الحشرية ولم يصدر إلى الخارج.

الاختبار العاشر

أولاً: أ) أمامك خريطة صماء لمصر اكتب مدلول الأرقام:



١- مورد مياه عذبة نهر النيل.

٢- فرع دمياط.

٣- محطة كهرباء السد العالي.

٤- البحر الأحمر.

ب): ما المقصود بـ؟

١- الطاقة.

- كلما ينتج عن احتراق الوقود أو حرارة الشمس أو قوة الرياح أو تساقط الأمطار.

٢- تكرير البترول.

- فصل مكونات البترول عن الزيت الأصلي.

ثانياً: أ) اكتب ما تشير إليه العبارة:

١- وسيلة مواصلات تربط ثلاث مدن تعرف بإقليم القاهرة الكبرى ومصر أولى الدول العربية استخداماً لها.

(المترو).

٢- تحويل المواد الخام باستخدام الآلات والأدوات إلى صناعات متنوعة.

(صناعة).

٣- أحد الآثار الرومانية في مصر ويعد أعلى نصب تذكاري في العالم.

(عمود السواري).

٤- ديانة سماوية دخلت مصر على يد القديس مرقس.

(الديانة المسيحية).

(ب) ما النتائج المترتبة على؟

- ١- ثورات الشعب المصري ضد الحكم البطلمي.
- أدى إلى سقوط دولة البطالمة.
- ٢- تلوث مياه نهر النيل.
- تلوث المياه والأسماك وإصابة الإنسان بالأمراض.
- ٣- انتصار أكتافيوس في معركة أكتيوم البحرية.
- أصبحت مصر ولاية رومانية.

ثالثاً: أ) اكتب كلمة (صح) أمام العبارة الصحيحة أو كلمة (خطأ) أمام العبارة غير الصحيحة:

- ١- ثورة الرعاة أهم ثورات المصريين ضد حكم البطالمة. (خطأ)
- ٢- يهدف مشروع ترعة السلام إلى توصيل مياه النيل إلى شمال سيناء. (صح)
- ٣- يبدأ التقويم القبطي في مصر منذ تولية الإمبراطور أكتافيوس. (خطأ)

(ب) بم تفسر؟:

- ١- قيام الصناعة في مصر.
- لتوافر العوامل الطبيعية والبشرية.
- ٤- أهمية النقل الجوي.
- يتخطى المرتفعات.
- واسع الانتشار.
- أسرع وسائل النقل.
- ٥- إنشاء الرومان حصن بابليون.
- لكي يسهل السيطرة على أي ثورة تقوم ضدهم من المصريين.



رابعاً: أ) اختر الإجابة الصحيحة مما بين الأقواس:

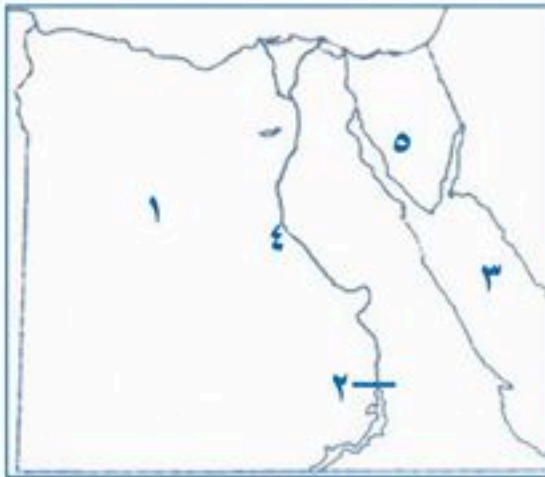
- ١- يقل إنتاج الأسماك في ..... لوجود الشعاب المرجانية.  
(البحر المتوسط - البحر الأحمر - بحيرة المنزلة - بحيرة ناصر).
- ٢- من المقومات الطبيعية لقيام الصناعة.....  
(السوق - رأس المال - مصادر الطاقة - وسایل النقل).
- ٣- سمي عهد ..... بعصر الاضطهاد الأكبر أو عصر الشهداء.  
(كليوباترا - قسطنطين - دقلديانوس - أغسطس).
- ٤- تحرر المصريون من ويلات الحكم البيزنطي والروماني على يد ..... عام ٦٤١ م.  
(عمر بن الخطاب - عمرو بن العاص - خالد بن الوليد - محمد علي).

ب) اكتب بعض الآثار التي تركتها الحضارات الآتية:

الرومانية	القبطية	البتلمية
حصن بابلون. عمود السواري. معبد رأس السوداء. المسرح الروماني. تماثيل الأباطرة. الأواني الفخارية.	الكنيسة المعلقة. وادي النظرون. دير المحروق.	منارة الإسكندرية. إدفو. دندرة. معابد فيلة. آثار النوبة. معبد بيت الوالي. دير المدينة.

## اختبارات عامة

### اختبار ١



١- اامك خريطة صماء اكتب مدلول الأرقام التي عليها

- ١- منطقة استخراج الحديد .....
- ٢- السد .....
- ٣- البحر .....
- ٤- نهر .....
- ٥- منطقة لاستخراج المنجنيز في مصر .....

٢- ضع علامة (✓) أمام العبارات الصحيحة وعلامة (x) أمام العبارات الخطأ

- ٢- الاسراف في استخدام المياه إهدار للموارد الطبيعية ( )
- ٣- النقل البرى يشمل السكك الحديدية والجوى ( )
- ٤- الطاقة الشمسية طاقة متجددة ( )
- ٥- دخلت المسيحية مصر على يد القديس مرقس ( )

٤- اكتب المصطلح العلمى لكل عبارة مما يأتى

- ١- كهرباء مولدة من خلف السدود والقناطر (.....)
- ٣- اتحاد اقتصادى وسياسى للدول الاوربية يضم ٢٧ دولة (.....)
- ٤ - تجارة تتم داخل حدود الدولة (.....)
- ٥- كل الموارد التى منحها الله للإنسان دون جهد من جانبه فى تكوينها (.....)

٦- من هو ( انسب كل عمل الى صاحبه )

- ١- إصدار مرسوم ميلانو (٣١٣م) .....
- ٢- القيام بثورة فى الدلتا ضد الحكم الروماني .....



## اختبار ٢

### السؤال الأول: أ - أكتب ما تدل عليه كل عبارة :

- ١- الموارد التي منحها الله للإنسان ليعمل بها من جانبه في تكوينها {.....}
- ٢- كهرباء مولدة من خلف السدود و القناطر {.....}
- ٣- زيادة إنتاج الفدان باستخدام الوسائل العلمية في الزراعة {.....}

### ب - أذكر أهمية ١- المياه العذبة:

- ١- ..... -١
- ٢- ..... -٢
- ٣- ..... -٣
- ٤- ..... -٤

### ٢- وضح دور بطليموس الأول في مجال الزراعة .....

### السؤال الثاني: أ- أكمل العبارات الآتية :

- ١- دخلت المسيحية مصر على يد القديس .....
- ٢- سمي عصر البطلمة بهذا الاسم نسبة إلى .....
- ٣- أشهر ثورات المصريين عند الرومان ثورة ..... في الدلتا

### ب - وضح سبب تسمية / عصر نفلديتوس بعصر الاضطهاد الأكبر

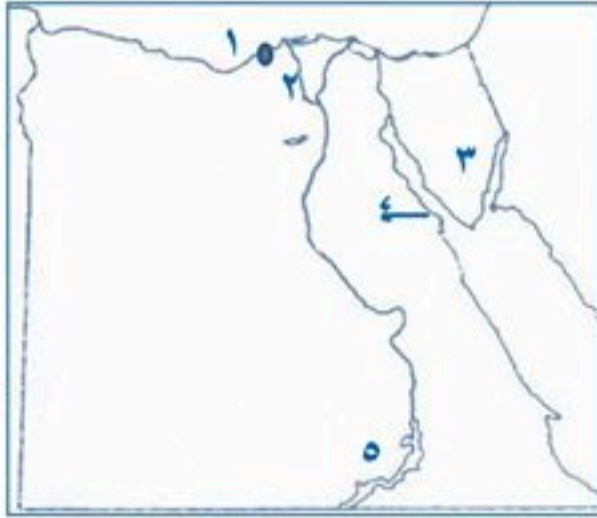
.....

### السؤال الثالث :- اختر الإجابة الصحيحة مما بين الأقواس

- ١- أكثر مصادر الطاقة تلويثاً للبيئة ..... ( البترول - الفحم - الرياح - الكهرباء )
- ٢- يتم استخراجها من وادي النيل عند السباعية ..... (المنجنيز - الفوسفات - النحاس - الذهب )
- ٣- من أشهر مراكز صناعة الغزل والنسيج في مصر مدينة ..... ( أسبوط - المحلة الكبرى - القاهرة - المنيا )
- ٤- الإسراف في استخدام المياه إهدار للموارد ..... ( الطبيعية - البشرية - البيئية - الجوفية )



## اختبار ٣



س١ / أمامك خريطة صماء وضع مدلول الأرقام :

- ١- البحر .....
- ٢- مدينة .....
- ٣- شبه جزيرة .....
- ٤- خليج .....
- ٥- بحيرة .....

س٢ / أكمل ما يأتي :-

- أ - تبلغ مساحة الأراضي الزراعية في مصر حوالي ..... مليون فدان
- ب - يعتبر ..... أكثر أنواع الطاقة تلوثا للبيئة
- ج - تنقسم الصناعة إلى صناعة استخراجية وصناعة .....
- د - يقع معظم مساحة مصر في الأقاليم .....
- هـ - يعتبر ميناء الاسكندرية اهم الموانئ المطلة على البحر .....

س٣ / ضع علامة (√) أمام العبارات الصحيحة وعلامة (×) :-

- ١ . الطاقة الشمسية طاقة متجددة ( )
- ٢ . يكفي إنتاج القمح واللحوم حاجة السكان ( )
- ٣ . الارز يحتل المركز الثاني في صادرات مصر ( )
- ٤ . يتم تزويد مشروع توشكي بالمياه من بحيرة قارون ( )
- ٥ . تشمل الموارد الطبيعية في مصر الطرق والمواصلات ( )

س٤ / أكتب ما تدل عليه كل عبارة :-

- (ب) اتحاد اقتصادي وسياسي يضم ٢٧ دولة .....
- (ج) يعتبر..... لرخص انواع النقل ويستخدم لنقل البضائع الثقيلة كبيرة الحجم
- (د) تجارة تتم داخل حدود الدولة .....
- (هـ) بناء في النهر يستخدم لحفظ وتوليد الكهرباء .....



## س5 / اختر الإجابة الصحيحة مما بين الأقواس :-

- ١- الاتحاد الأوربي يستورد من مصر حوالي .... [ ٤٢ % - ٣٢ % - ٢٢ % ]
- ٢- عاصمة مصر في عهد البطالمة مدينة [ القاهرة - الاسكندرية - الجيزة ]
- ٣- حكم البطالمة مصر حوالي [ ٢٠٠ عام - ٣٠٠ عام - ٤٠٠ عام ]
- ٤- من مصادر المياه العذبة ..... [ البحر المتوسط - البحر الاحمر - بحيرة ناصر ]
- ٥- يعتبر القائد ..... هو مؤسس دولة البطالمة في مصر [ الاسكندر - فليب الثاني - بطليموس الاول ]

## س6 / أ ب تفسر : ( أذكر سببا واحدا ) :-

١- قلة المراعي الطبيعية في مصر

.....

٢- يعتبر ميناء الاسكندرية ذو اهمية كبيرة

.....

٣- قلة الاهمية الاقتصادية لمواني البحر الاحمر .

.....

ب- من اهم أعمال بطليموس الاول :-

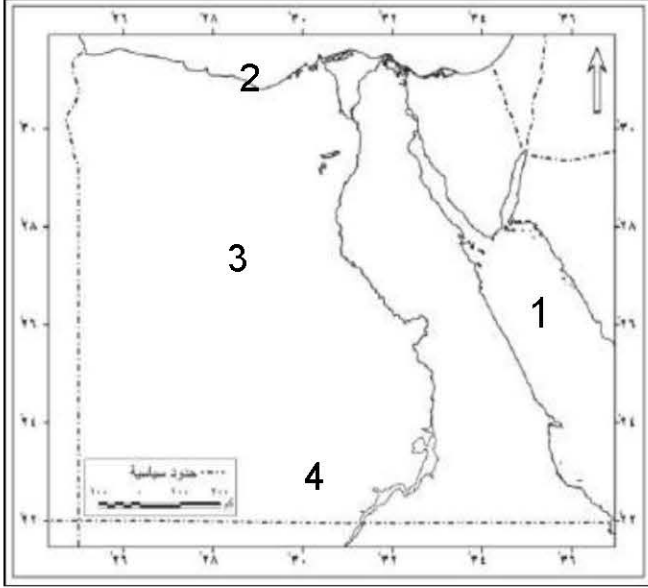
١- .....

٢- .....



## نماذج من امتحانات السفارة والوزارة

### نموذج (1)



#### السؤال الأول:

(أ) أمامك خريطة صماء لمصر اكتب منلول الأرقام المواقع عليها:

١- البحر.....

٢- ميناء.....

٣- منطقة لاستخراج الحديد.....

٤- مشروع.....

(ب) بم تفسر:

1- أهمية الزراعة في مصر؟

2- تنوع الموارد المائية في مصر؟

#### السؤال الثاني:

(أ) أكمل ما يأتي:

1- من مصائد المياه العذبة.....

2- يعد النقل..... أرخص أنواع النقل.

3- بدأت صناعة الغزل والنسيج علي يد.....

4- يحتل محصول..... المركز الثالث من الصادرات الزراعية.

(ب) ما المقصود بكل من:

1- التلوث

2- التجارة

#### السؤال الثالث:

اختر الأجابه الصحيحه مما بين القوسين:

1- اطلق لقب سوتير علي ..... (بطليموس الأول - أكتافيوس - أطونيوس - بطليموس الثالث)

2- اعترف الأمبراطور قسطنطين الأول بالديانه ..... (المجوسيه - المسيحيه - الوثنيه - الإسلام)

3- ولد السيد المسيح في عهد..... (اغسطس قيصر - هادريان - هيرونوس - نيرون)

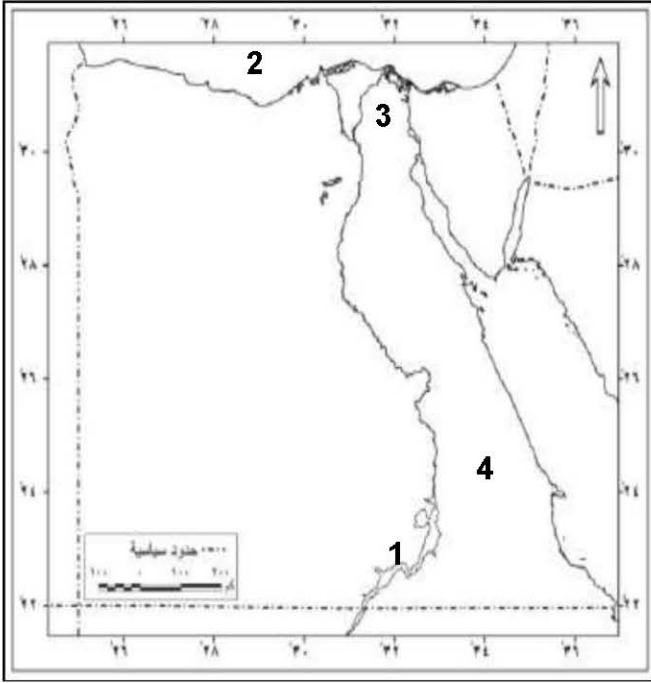
#### السؤال الرابع:

ما النتائج المترتبه علي:

١- معركة أكتيوم البحريه 31 ق.م؟

٢- سوء معامله الرومان للمصريين؟

## نموذج (2)



### السؤال الأول:

(أ) امامك خريطة لمصر اكتب منلول الأرقام المواقع عليه:

- 1- بحيره .....
- 2-البحر.....
- 3-مشروع.....
- 4-منطقة لاستخراج الذهب.....

(ب) بم تفسر:

- 1- أهمية المياه المالحة؟
- 2- الأهمية الاقتصادية لمعدن الذهب؟

### السؤال الثاني:

(أ) ضع علامة صح أو خطأ:

- 1-تنتشر في مصر غابات طبيعيه متنوعه ( )
- 2-تعتمد الزراعه في الساحل الشمالي علي الامطار ( )
- 3-إنتاج اللحوم في مصر يكفي حاجه السكان ( )

(ب) اكتب المصطلح العلمي:

- 1- انتقال السلع والخدمات داخل حدود الدوله ( )
- 2-عملية فصل مكونات البترول عن الزيت الاصلي ( )

### السؤال الثالث:

أكمل ماياتي:

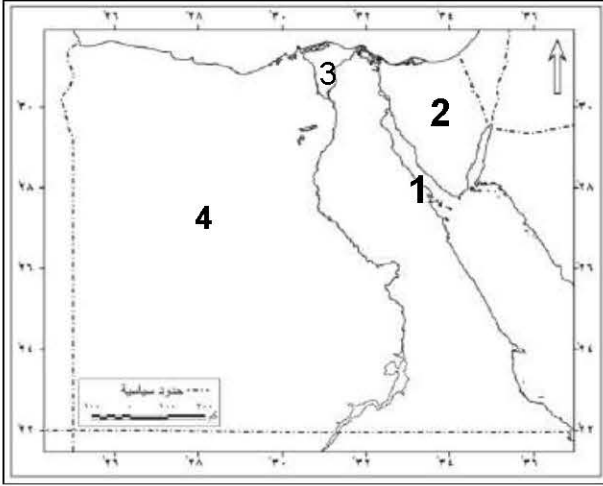
- 1-يعد .....أعلي نصب تذكاري في العالم.
- 2-اصدر قسطنطين الاول عام 313م مرسوم .....
- 3-من أهم الآثار القبطيه في مصر.....و.....
- 4-نجح القائد العربي.....في تحرير مصر من الرومان.

### السؤال الرابع:

بم تفسر:

- 1-رغبه بطليموس الأول في الانفراد بحكم مصر.
- 2-عرف عصرالامبراطور نقلديانوس بعصر الشهداء.

### نموذج (3)



#### السؤال الاول:

(أ) امامك خريطة صماء لمصر اكتب مثلول الارقام الموقعه عليها:

- 1- خليج.....
- 2-منطقه لاستخراج الفحم.....
- 3-منطقه لاستخراج الغاز الطبيعي.....
- 4-مشروع.....

(ب) ضع علامه صح أو خطأ:

- 1-يستخرج البترول والغاز الطبيعي من قاع البحار والمحيطات ( )
- 2-يستخدم الفوسفات في صناعه الاسمنت ( )
- 3-التربه والثروه المعنبيه من الموارد الطبيعیه ( )

#### السؤال الثاني:

(أ) أكمل مايتي:

- 1-يحتل البرتقال المركز.....في قائمه الصادرات المصريه.
- 2-من مصادر الطاقه المتجدده.....و.....

(ب) ماالمقصود بكل من:

- 1-الموارد الطبيعیه
- 2- الصناعه

#### السؤال الثالث:

اختر الاجابه الصحيحه ممايبين القوسين:

- 1-وُلد السيد المسيح في بيت لحم في.....(سوريا - العراق - مصر - فلسطين)
- 2-سك اول عمله معنبيه في مصر.....(بطليموس الاول- أكتافيوس - كليوباترا السابعة- نيرون)
- 3-دخلت المسيحيه مصر علي يد.....(نيرون- بطليموس الاول - أكتافيوس -القديس مرقس)

#### السؤال الرابع:

ماالنتائج المترتبه علي:

- 1-انشاء بطليموس الاول الكثير من المناحل؟
- 2-كراهيه المصريين للرومان؟



### نموذج (4)

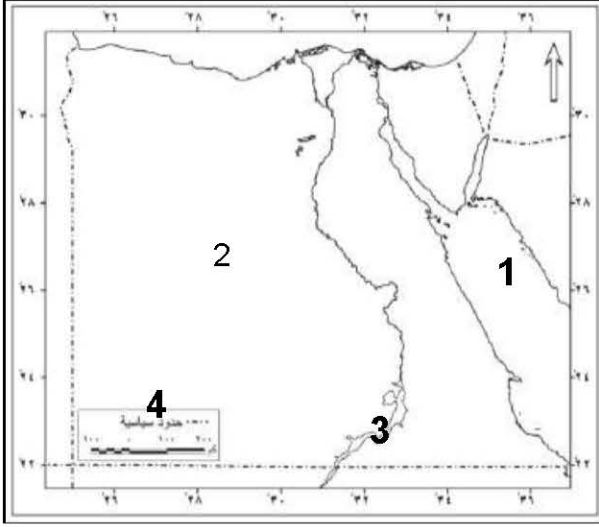
#### السؤال الاول:

(أ) امامك خريطة صماء لمصر اكتب مملول الارقام المواقع عليها:

- ١- البحر.....
- ٢- الصحراء.....
- ٣- السد.....
- ٤- مشروع.....

(ب) ما المقصود بكل من:

- ١- الطاقة
- ٢- التجاره الخارجيه



#### السؤال الثاني:

(أ) صوب ماتحته خط:

- 1- تجمع الكوميسا هو اتحاد اقتصادي بضم دول شرق وجنوب اسيا.
  - 2- اولي نول الوطن العربي لتاجا للطاقة الكهرومانيه هي السودان.
- (ب) اكتب نتيجته واحده لكل من:

- 1- ألقاء مخلفات الصرف الصحي والصناعي في مياه نهر النيل.
- 2- عدم وجود اساطيل صيد متقدمه في مصر.

#### السؤال الثالث:

لمن تنسب الاعمال التاريخيه:

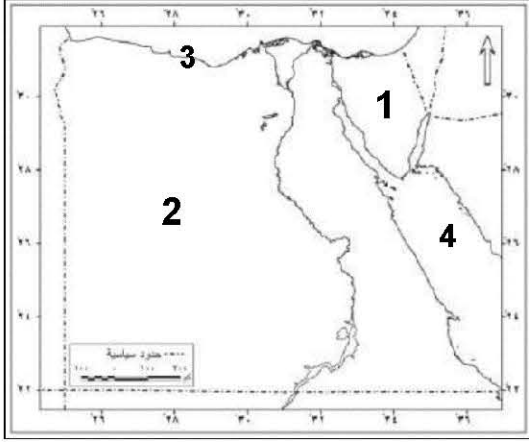
- ١- اصدر مرسوم ميلان 313م.
- ٢- اصدر مرسوم بهدم الكنائس واحراق الكتب المقدسه.
- ٣- تولت الحكم بعد بطليموس الثاني عشر.

#### السؤال الرابع:

بم تفسر:

- ١- رغبه بطليموس الاول في الانفراد بحكم مصر.
- ٢- سقوط وانهيال الدوله الرومانيه.

## نموذج (5)



### السؤال الاول:

(أ) امامك خريطة صماء لمصر اكتب مثلول الارقام المواقع عليها:

- 1- منطقة لاستخراج المنجنيز.....
- 2-من مشروعات التنمية الزراعيه.....
- 3-عاصمه البطالمه في مصر.....
- 4-من مصايد المياه المالحة.....

(ب) بم تفسر:

- 1- قله اهميه المواني علي البحر الاحمر.
- 2-قله الاهميه الاقتصايه للفحم.

### السؤال الثاني:

(أ) ضع علامه صح او علامه خطأ:

- 1- تكثر المراعي الطبيعيه في مصر ( )
- 2-تستخدم الطاقه الشمسيه في تسخين المياه والاعراض المنزليه ( )
- 3-يعتمد مصنع الحديد والصلب في حلوان علي حديد الواحات البحريه ( )

(ب) ما المقصود بكل من:

- 1-الفيضان
- 2-النشاط الاقتصادي

### السؤال الثالث:

أكمل العبارات التاليه:

- 1-توجد أبيره محطات وادي النطرون في محافظه.....
- 2-عرف عصر الامبراطور.....بعصر الشهداء.
- 3-بداء التقويم القبطي في مصر مع بدايه حكم.....
- 4-تعتبر.....من الاثار الرومانيه في مصر.
- 5-قامت ثوره الرعاه ضد الرومان في.....

### السؤال الرابع:

(أ) من أكون:

- 1-أنخلت المسيحيه الي مصر.
- 2-اعبت أملاك الكنيسه المصادره.

(ب) ماالنتائج المترتبه علي


هزيمه (كليوباترا) السابعة و(أطونيوس) في معركة أكتيوم البحريه.

الرقم السري



الرقم السري

إدارة ..... التعليمية  
مدرسة .....



امتحان دراسات - ٢٠٢١-٢٠٢٠م الزمن : ساعة ونصف  
الفصل الدراسي الأول في الدراسات للصف الخامس  
الصف الخامس

عزازی عبده م ٠١١٤٦٩٥١٤١

السؤال الأول: (أ) اكتب مدلول الأرقام على الخريطة التالية : ٨ درجات



١ - .....

٢ - .....

٣ - .....

٤ - الصحراء.....

(ب) ما المقصود بالمفاهيم الآتية :

٢- جامعة : .....

٤- المعادن : .....

عزازی عبده م ٠١١٤٦٩٥١٤١

السؤال الثاني: (أ) ضع علامة (✓) أو علامة (x) أمام العبارات التالية كل بما ينسبها : ٧

١- يستخدم المنجنيز في صناعة الحلي ( )

٢- اكتشف معبد رأس السوءاء بطريق الصعيد ( )

٣- تختلف أهمية المعادن حسب كمية وجودها في الطبيعة ( )

٤- زاد تدخل البطالمة في شئون مصر في عهد كليوباترا السابعة ( )

(ب) يم تفسر ؟ يكتفى بسبب واحد

١- رغبة بطليموس الأول في الانفراد بحكم مصر

.....

٢- الأهمية الاقتصادية للفوسفات .....

.....

عزازی عبده م ٠١١٤٦٩٥١٤١

٨ درجات

السؤال الثالث: أكمل الناقص في العبارات التالية : ٧ درجات

١- أنشأ بطليموس الأول المناحل لتصدير العسل الى .....

٢- يتم استخراج الحديد في مصر من .....بالصحراء .....

٣- أهم حقول الغاز الطبيعي في مصر حقل .....شمال الدلتا

٤- من محطات توليد الطاقة الكهرومائية محطة .....

(ب) ما النتائج المترتبة على :

١- بناء مصر للسد العالي في أسوان :

.....

عزازی عبده م ٠١١٤٦٩٥١٤١

السؤال الرابع: (أ) اكتب المصطلح الدال على كل عبارة من العبارات الآتية : ٧ درجات

١- ندرة الأمطار مما يضر بالأنشطة البشرية الزراعة والرعي . (.....)

٢- عصر خلفاء الإسكندر الأكبر المقدوني اليوناني في مصر . (.....)

٣- عملية يتم فيها فصل مكونات البترول عن الزيت الاصلى (.....)

٤- الطاقة المولدة من خلف السدود والقناطر (.....)

(ب) ضع دائرة حول الكلمة التي لا تنتمي الى المجموعة

١- فحم - بترول - غاز طبيعي - الرياح

٢- حصن بابليون - معبد الفو - معبد ندرة - معابد فيلة

(ج) ماذا يحدث اذا :

١- قلت الأمطار على سواحل مصر الشمالية .....

عزازی عبده م ٠١١٤٦٩٥١٤١

مدرسة ..... امتحان الدراسات الاجتماعية نصف العام ٢٠٢١م للصف الخامس  
رقم الجلوس .....  
اسم التلميذ /

## النموذج الاول لامتحان الصف الخامس الابتدائى

السؤال الاول:

أكمل العبارات الآتية بالكلمات المناسبة:-

- ١- يتميز سكان البيئة الصناعية ببعض العادات مثل ..... و.....
- ٢- كانت عاصمة مملكة الشمال ..... أما عاصمة مملكة الجنوب هي .....
- ٣- تعتبر صناعة ..... هي أساس الصناعات الثقيلة.
- ٤- البيئة هي كل ما يحيط بالانسان من عناصر ..... وعناصر.....
- ٥- أقام مينا عاصمة للبلاد وأسمها ..... وأسمها العرب .....
- ٦- أقامت الدولة مشروعاً ضخماً لاستصلاح مساحات كبيرة بالصحراء الغربية هو.....

السؤال الثانى:

تخير الاجابة من بين الاقواس:-

- ١- توفى أحمرس الاول بعد أن حكم مصر مده ..... عام  
( ٢٠-٢١ - ٢٢-٢٣ )
- ٢- سميت الكتابة المصرية القديمة باسم الكتابة .....  
( الفينيقية - الهيروغليفية - المسمارية - الديموطيقية )
- ٣- تحتفل الدولة كل عام بعيد العمال من اول كل شهر .....  
( أكتوبر - يناير - مايو - أبريل )
- ٤- تكونت دلتا نهر النيل عند مصبه على شكل .....  
( دائرى - مستطيل - مروحى - مربع )
- ٥- يعتبر الملك مينا مؤسس الاسرة ..... الفرعونية.  
( الاولى - الثانية - الثالثة - الرابعة )

السؤال الثالث :

بم تفسر.....؟

- ١- نجاح الهكسوس فى احتلال مصر .
- ٢- تعتبر بيئات مصر متكاملة .
- ٣- أهمية الصناعة لسكان مصر .
- ٤- قيام الزراعة فى اقليم مريوط .
- ٥- نزول الانسان المصرى القديم من الهضبة الى الوادى .

#### السؤال الرابع :

اذكر المفهوم أو المصطلح الذى تدل عليه العبارات الآتية :-

- ١- الاسرة التى تصنع بعض المنتجات منزليا وتبيعها فى الاسواق والمعارض تحت اشراف وزارة التضامن الاجتماعى .
- ٢- أرض منخفضة فى الصحراء تقوم بها الزراعة على مياه العيون والابار .
- ٣- تحويل المادة الخام الى منتجات او مصنوعات .
- ٤- قبائل بدوية اسبوية جاءت عن طريق فلسطين لتحتل مصر .
- ٥- حمل لقب مصر العليا والسفلى ولبس تاج يضم تاجى الشمال والجنوب .

#### السؤال الخامس:

أعد كتابة الجمل التالية بعد تصويبها :-

- ١- اتخذ الهكسوس مدينة طيبة عاصمة لهم بعد احتلالهم مصر .
- ٢- نجح مشروع توشكى فى استصلاح أراضى واسعة فى سيناء .
- ٣- الصناعات الحديثة تتم فى الورش او المنازل وتتميز بكثرة العمال والانتاج .
- ٤- كانت نخب عاصمة لمملكة الشمال وكان ملكها يلبس تاجا ابيض .
- ٥- يشتهر حى الزيتية بالسويس بصناعة الحديد والصلب .

## اجابة النموذج الاول

### اجابة السؤال الاول :-

- ١- مشاركة المرأة للرجل - احترام المواعيد
- ٢- بوتو - نخب
- ٣- الحديد والصلب
- ٤- طبيعية - حضارية
- ٥- من نفر - منف
- ٦- مشروع توشكى

### اجابة السؤال الثانى :-

- ١- ٢٢      ٢- الهيروغليفية      ٣- مايو      ٤- مروحي      ٥- الاولى

### اجابة السؤال الثالث :-

- ١- سوء حالة مصر بسبب الفوضى وضعف الحكام .  
تفوق الهكسوس بسبب كثرتهم واستخدامهم العجلات الحربية واسلحة اخرى لم يعرفها المصريون من قبل .
- ٢- لأن كل بيئات مصر يكمل بعضها الاخر فالبيئة الصحراوية تمد البيئات الاخرى بالبترول والغاز الطبيعى وهى عناصر أساسية فى الصناعات المختلفة كما أن الانتاج الصناعى الذى تقدمه البيئة الصناعية يفيد سكان باقى البيئات وكذلك البيئة الزراعية كل ما تنتجه تستفيد منه البيئات الاخرى .
- ٣- توفر فرص العمل للمواطنين فتقضى على البطالة .  
تقدم للمواطنين فى كل البيئات المصرية الكساء والغذاء ووسائل المواصلات وغيرها .  
تساهم فى التصدير فتجلب للبلاد العملات الاجنبية اللازمة للتنمية والتقدم .  
الاهتمام بالصناعة فيه تقوية لمصر ولاقتصادها فكلما قويت الصناعة قويت الدولة .
- ٤- بسبب سقوط الامطار الشتوية على الاقليم
- ٥- بسبب قلة الامطار على الهضبة وساد الجفاف

اجابة السؤال الرابع :-

- ١- الاسرة المنتجة ٢- الواحة ٣- الصناعة ٤- الهكسوس ٥- الملك مينا

اجابة السؤال الخامس :-

- ١- اتخذ الهكسوس مدينة او اريس عاصمة لهم بعد احتلالهم مصر .
- ٢- قام مشروع توشكى لاستصلاح اراضى واسعة فى الصحراء الغربية .
- ٣- الصناعات اليدوية هى التى تتم فى الورش او المنازل وتتميز بكثرة العمال والانتاج .
- ٤- كانت بوتو عاصمة لمملكة الشمال وكان ملكها يلبس تاجا احمر .
- ٥- يشتهر حى حلوان بصناعة الحديد والصلب .

## النموذج الثانى للصف الخامس الابتدائى

السؤال الاول :

اكمل العبارات الاتية :-

- ١- من العادات غير المستحبة فى الريف الزواج المبكر و..... و.....
- ٢- عوامل القوى المحركة للصناعة ..... و..... والكهرباء .
- ٣- يتعرض الهواء فى البيئة الصناعية الى التلوث نتيجة ..... الكثيفة و..... السامة .
- ٤- كانت عاصمة مملكة الشمال ..... اما ..... فكانت عاصمة مملكة الجنوب .
- ٥- الهكسوس قبائل ..... اسيوية جاءت عن طريق ..... .

السؤال الثانى:

اختر الاجابة الصحيحة مما بين الاقواس:-

- ١- تتركز صناعة الالومنيوم فى .....  
( اسوان - اسيوط - نجع حمادى - الاقصر )
- ٢- اهم المدن الصناعية الجديدة.....  
( العامرية الجديدة - السويس - المحلة الكبرى - كفر الزيات )
- ٣- توجد البيئة على جانبي النيل وتسمى البيئة .....  
( الصناعية - الزراعية - الصحراوية - الساحلية )
- ٤- اتخذ الهكسوس عاصمة لهم هى .....  
( طيبة - منف - بوتو - اواريس )
- ٥- مؤسس الاسرة الفرعونية الاولى الملك.....  
( تحتمس - مينا - رمسيس - اخناتون )

السؤال الثالث:

اكتب المصطلح او المفهوم لكل عبارة مما يأتى:-

- ١- كل ما يحيط بالانسان من عناصر طبيعية وحضارية .
- ٢- يزرع فى الصيف وتقوم عليه صناعة الدقيق .
- ٣- تقدم القروض للمصانع .
- ٤- حكم مصر ٢٢ عاما ولا تزال موميأوه بالمتحف المصرى .



السؤال الرابع : -

ما النتائج المترتبة على ٢٠٠؟

- ١- اتساع مساحة مصر .
- ٢- تربية الحيوان
- ٣- تدريب احمس جنوده على استخدام العجلات الحربية .
- ٤- اهتمام الدولة باستخدام التكنولوجيا فى الصناعة .
- ٥- توحيد الملك مينا للقطرين .

السؤال الخامس:

ما المقصود بالمفاهيم التالية ٢٠٠؟

- ١- الانسان النشط
- ٢- البيئة المتداخلة
- ٣- تجريف التربة
- ٤- حجر رشيد
- ٥- العجلات الحربية

## اجابة النموذج الثانى

اجابة السؤال الاول:

- ١- كثرة الانجاب - زواج الاقارب
- ٢- البترول والغاز الطبيعى
- ٣- الادخنة - الغازات
- ٤- بوتو - نخب
- ٥- بدوية - فلسطين

اجابة السؤال الثانى:

- ١- نجع حمادى
- ٢- العامرية الجديدة
- ٣- الزراعة
- ٤- اواريس
- ٥- مينا

اجابة السؤال الثالث:

- ١- البيئة
- ٢- الارز
- ٣- البنوك
- ٤- احمس
- ٥- نبات البردى

اجابة السؤال الرابع:

- ١- تنوعت البيئات المصرية.
- ٢- ساعدت الفلاح فى اعمال الزراعة واستخدم فضلاتها كسماد للارض ونستفيد من لحومها والبانها.
- ٣- الانتصار على الهكسوس.
- ٤- تقدم الصناعة وتصدير الفائض لجلب العملات الاجنبية وجودة الانتاج.
- ٥- اقام عاصمة جديدة وهى من- نفر وعمل اول حكومة مركزية.

اجابة السؤال الخامس:

- ١- الإنسان النشط في البيئة الصناعية هو الإنسان الذي يتميز بالنشاط والتطور والسعي إلى التنمية وجودة الإنتاج ويهتم بالتدريب على أحدث الأساليب وإدخال التكنولوجيا.
- ٢- وجود مناطق زراعية داخل البيئة الصحراوية ووجود مناطق صناعية داخل البيئة الزراعية وهكذا.
- ٣- إزالة الطبقة السطحية للتربة.
- ٤- حجر اكتشف أثناء الحملة الفرنسية واستطاع العالم شمبليون فك الرموز التي عليه و تم معرفة إسرار اللغة المصرية القديمة عن طريقه

## النموذج الثالث للصف الخامس الابتدائي

### السؤال الاول:

اكمل العبارات الاتية:-

- ١- تتركز الزراعة فى اراضى الوادى ..... و.....
- ٢- الصناعة هى تحويل المادة ..... الى منتجات او مصنوعات .
- ٣- يعتمد الانتاج الصناعى على ..... الخامات و ..... الصناعة .
- ٤- سجل القدماء المصريين اخبارهم على ..... و ..... على ..... .
- ٥- نجح الهكسوس فى احتلال مصر بسبب ..... و ..... و ..... .

### السؤال الثانى:

اختر الاجابة الصحيحة مما بين الاقواس:-

- ١- مميزات الصناعة الحديثة .....  
( يعمل بها عدد قليل - انتاجها قليل - استخدام التكنولوجيا - توجد بالمنازل )
- ٢- تبلغ نسبة سكان الريف حوالى .....% من مجموع سكان مصر .  
( ٦٠ - ٥٥ - ٥٣ - ٤٠ )
- ٣- يزرع القمح فى فصل .....  
( الربيع - الصيف - الخريف - الشتاء )
- ٤- انشأ الملك مينا عاصمة فى مكان متوسط بين القطرين هى .....  
( نخب - بوتو - من نفر - طيبة )
- ٥- سمي المصريون الهكسوس باسم .....  
( الفلاحين - الصناع - الرعاى - الصيادين )

### السؤال الثالث :

اكتب كلمة تدل على كل عبارة مما يأتى:-

- ١- يشتري كميات كبيرة من المنتجات ليبيعتها لتاجر التجزئة .
- ٢- تحويل المادة الخام الى منتجات او مصنوعات .
- ٣- تعمل على تقليب التربة وتهويتها .
- ٤- اتخذها الهكسوس لتكون عاصمة لدولتهم .

## السؤال الرابع :

ما النتائج المترتبة على ٠٠؟

- ١- تجريف التربة.
- ٢- التصحر.
- ٣- القاء مخلفات الصرف الصحى فى مياه النهر.
- ٤- اهتمام الدولة بتصنيع الريف.
- ٥- جودة ونعومه القطن المصرى.

## السؤال الخامس :

بم تفسر ٠٠٠٠؟

- ١- نشر الوحدات الصحية فى الريف.
- ٢- تنوع البيئات المصرية.
- ٣- اهتمام الدولة بالصناعة.
- ٤- تكوين الملك مينا لجيش قوى.
- ٥- استقبال الشعب للملك احمس استقبالا حافلا.

## اجابة النموذج الثالث

اجابة السؤال الاول :

- ١- الدلتا - الفيوم
- ٢- الخام
- ٣- جودة - دقه
- ٤- جدران المعابد - ورق البردى
- ٥- ضعف الحكام - استخدام العجلات الحربية -  
كثرة عددهم .

اجابة السؤال الثانى :

- ١- استخدام التكنولوجيا
- ٢- ٥٥%
- ٣- الشتاء
- ٤- من نفر
- ٥- الرعاه

اجابة السؤال الثالث :

- ١- تاجر الجملة
- ٢- الصناعة
- ٣- حرث الارض
- ٤- اواريس
- ٥- مينا

اجابة السؤال الرابع :

- ١- ادى الى ضعف وقله الانتاج .
- ٢- قله الاراضى الزراعية وعدم كفايه الانتاج الزراعى للسكان .
- ٣- تلوث مياه النهر .
- ٤- لرفع مستوى سكانه وايجاد فرص عمل للشباب .
- ٥- شهرة المنسوجات القطنية المصرية .

اجابة السؤال الخامس:

- ١- توعيه الريفيات على تعديل العادات غير المستحبه .
- ٢- بسبب اتساع مساحة ارض مصر .
- ٣- لان الصناعة تعمل على تقوية الدولة وتشغيل الشباب وسد حاجة السكان والفائض  
يصدر للخارج لجلب عملات اجنبية تستفيد منها الدولة فى مشروعات اخرى .
- ٤- لحماية البلاد من المعتدين .

## الصف الخامس الابتدائى

### النموذج الرابع

#### السؤال الاول :

اكمل العبارات الاتية : -

١. تتركز صناعة السجاد اليدوى فى ..... اما صناعة الحرير فتوجد فى .....
٢. من المواد الخام الحيوانية ..... و ..... واللحوم
٣. تزرع الذرة فى فصل ..... اما الفول فيزرع فى فصل .....
٤. نجح الهكسوس فى احتلال مصر نتيجة ..... و .....
٥. عاش المصرى القديم على ..... و ..... فوق الهضاب

#### السؤال الثانى : -

اختر الاجابة الصحيحة مما بين الاقواس : -

١. تبلغ مساحة الاراضى الزراعية اكثر من ..... % من ارض مصر  
( ٥ - ٣.٥ - ٤.٥ - ١ )
٢. من العادات الغير مستحبة فى الريف .....  
( احترام كبار السن - الزواج المبكر - قلة الانجاب - التعاون )
٣. تلوث الهواء فى البيئة الصناعية بسبب .....  
( القاء المخلفات فى المياه - القاء الصرف الصحى فى البحر - عادم السيارات - الضوضاء )
٤. يعتبر مؤسس الاسرة الاولى الفرعونية الملك .....  
( احمس - مينا - تحتمس - رمسيس )
٥. احمس امير من .....  
( فلسطين - طيبة - منف - اواريس )

السؤال الثالث : -

اكتب الكلمة الدالة على كل عبارة مما يأتي : -

١. تقوم بصناعة بعض المنتجات وبيعها في الاسواق او المعارض .
٢. تتميز بأنها بيئات متنوعة ومتكاملة ومتداخلة .
٣. تحويل الاراضى الزراعية الى ارض بور او صحراء .
٤. احتل الهكسوس مصر بسبب تفوقهم فى استخدامها .
٥. استخدموها القدماء لتسجيل اخبارهم على جدران المعابد .

السؤال الرابع : -

ما المقصود بكل من : - ما معنى الكلمات التالية : -

- ١ - تجريف التربة
- ٢ - استخدام التكنولوجيا فى الصناعة
- ٣- تاجر التجزئة
- ٤ - العجلات الحربية
- ٥ - ورق البردى

السؤال الخامس : -

ما النتائج المترتبة على . . ؟

١. اهتمام البيئة الصناعية بتعليم البنات .
٢. حرث الارض .
٣. اتساع مساحة مصر .
٤. تشجيع والده احمس ابنها على محاربة الهكسوس .
٥. اكتشاف حجر رشيد .

## اجابة النموذج الرابع

### اجابة السؤال الاول : -

- ١ - الحرانية - اخميم
- ٢ - الجلود والالبان
- ٣ - الصيف - الشتاء
- ٤ - ضعف الحكام والفوضى - استخدام العجلات الحربية
- ٥ - جمع الثمار وصيد الحيوان

### اجابة السؤال الثانى : -

- ١ - ٣.٥% - ٢ - الزواج المبكر
- ٣ - عادم السيارات
- ٤ - مينا
- ٥ - طيبة

### اجابة السؤال الثالث : -

- ١ - الأسر المنتجة
- ٢ - البيئات المصرية
- ٣ - التصحر
- ٤ - العجلات الحربية
- ٥ - اللغة الهيروغليفية

### إجابة السؤال الرابع : -

١. إزالة الطبقة السطحية للأرض .
٢. تطبيق العلم باستخدام الآلات الحديثة وغيرها .
٣. بيع البضائع للمستهلكين .
٤. عبارة عن عجلات حربية تجرها الخيول .
٥. نبات ينتشر على ضفاف النيل استخدمه القدماء فى الكتابة

### اجابة السؤال الخامس : -

١. تأخر سن الزواج .
٢. يعمل على تقلبها وتهويتها قبل الزراعة .
٣. تنوع البيئات المصرية .
٤. انتصار أحمر على الهكسوس وطردهم من مصر .
٥. معرفة أعمال القدماء المصريين بعد فك الرموز .



## الصف الخامس الابتدائى

### النموذج الخامس

#### السؤال الاول :

اكمل العبارات الاتية : -

١. تهتم الدولة بـ ..... الريف لرفع مستوى السكان ويجاد ..... عمل لابنائهم .
٢. تتركز صناعة ..... بـ حلوان بالقاهرة و ..... بالاسكندرية .
٣. تتميز البيئات المصرية بإنها بيئات ..... و ..... ومتداخلة
٤. تعتبر ..... عاصمة مملكة الشمال اما ..... فهى عاصمة مملكة الجنوب
٥. اتخذ الهكسوس ..... عاصمة لهم واسماهم المصريون بـ .....

#### السؤال الثانى :

اختر الاجابة الصحيحة مما بين الاقواس : -

١. تضم البيئة الصناعية مدنا كاملة مثل .....  
( حلوان - شبرا الخيمة - دمياط - حى الزيتية بالسويس )
٢. تبدأ اعمال الزراعة بـ .....  
( بذر البذور - مرحلة الحصاد - رعاية النبات - حرث الارض )
٣. تحتفل الدولة من كل عام بعيد العمال يوم ..... مايو  
( اول - ثانى - ثالث - رابع )
٤. نتيجة الاستقرار فى مصر عرف قدماء المصريون الكتابة .....  
( العربية - الهيروغليفية - اليونانية - الهيراطيقية )
٥. الهكسوس قبائل بدوية جاءت عن طريق .....  
( فلسطين - لبنان - سوريا - العراق )

السؤال الثالث : -

اكتب المصطلح الذي تدل عليه كل جملة مما يأتي : -

١. مناطق زراعية داخل البيئة الصحراوية .
٢. تطبيق العلم على الصناعة عن طريق الآلات والأجهزة العلمية المتطورة .
٣. تستخدم فضلاتها كسماد طبيعي للتربة .
٤. سلاح استخدمه الهكسوس في الحرب .
٥. حمل لقب ملك مصر العليا والسفلى .

السؤال الرابع : - بم تفسر ؟

١. أهمية تربية الحيوان في الريف .
٢. قامت الدولة بشق ترعة السلام .
٣. شهرة المنسوجات القطنية المصرية .
٤. انشأ ميناء عاصمة جديدة من نفر .
٥. تشجيع والده احمس لمحاربة الهكسوس .

السؤال الخامس : -

اختر من العمود (ب) ما يناسب العمود (أ)

أ	ب
أ - يزرع القطن	١ - الارز
ب - النشا	٢ - نجع حمادى
ج - اقام اول حكومة مركزية	٣ - الصيف
د - الالومنيوم	٤ - الشتاء
هـ - درب جيشه على العجلات الحربية	٥ - مينا

## اجابة النموذج الخامس

اجابة السؤال الاول : -

- ١ - تعليم - فرص      ٢ - الصلب - الدخيلة  
٤ - بوتو - نخب      ٥ - اواريس - الرعاہ

اجابة السؤال الثانى : -

- ١ - دمياط      ٢ - حرث الارض      ٣ - اول  
٤ - الهيروغليفية      ٥ - فلسطين

اجابة السؤال الثالث : -

- ١ - الواحات      ٢ - التكنولوجيا      ٣ - تربية الحيوان  
٤ - العجلات الحربية      ٥ - مينا

اجابة السؤال الرابع : -

١. يساعد الفلاح - يستخدم فضلاتها كسماد - يأخذ منها اللحوم والالبان والجلود .
٢. لرى مساحات كبيرة شمال سيناء .
٣. لأنها تستخدم القطن المصرى الذى يمتاز بجودته ونعومته وبياضه .
٤. حتى يكون فى مكان متوسط بين القطرين .
٥. لأنهم قتلوا ابوه واخوه .

اجابة السؤال الخامس : -

- أ : ٣      ب : ١      ج : ٥      د : ٢      هـ : ٦